

சுராவின் சமூக அறிவியல்

10ஆம் வகுப்பு



புதிதாக
திருத்தியமைக்கப்பட்ட
பாடநூலின்படி
தயாரிக்கப்பட்டுள்ளது.

இலவச இணைப்பு
சுய மதிப்பீடு பயிற்சி நூல்
மற்றும்
வரைப்படப் பயிற்சி
புத்தகம்

சிறப்பம்சங்கள்

- ☞ பாடப்பகுதிகளிலுள்ள அனைத்து வினாக்களுக்கும் முழுமையான, எளிமையான விடைகள் கொடுக்கப்பட்டுள்ளன.
- ☞ ஒவ்வொரு பாடத்திலும் மிகுதியான அளவில் கூடுதல் வினா விடைகள் தரப்பட்டுள்ளன.
- ☞ ஒவ்வொரு பாடத்தின் இறுதியிலும் அலகுத் தேர்வு வினாத்தாள் விடைகளுடன் தரப்பட்டுள்ளது.
- ☞ மாதிரி வினாத்தாள்கள் 1 முதல் 6 வரை (PTA) வினாக்கள் ஆங்காங்கே சுட்டிக்காட்டப்பட்டுள்ளன.
- ☞ அரசு மாதிரி வினாத்தாள் 2019 [Govt. MQP-'19], காலாண்டு பொதுத்தேர்வு 2019 [QY-'19], அரையாண்டு பொதுத்தேர்வு 2019 [HY-'19], அரசு துணைத்தேர்வு செப்டம்பர் 2020 & 2021 [Sep-2020 & '21], முதல் மற்றும் இரண்டாம் திருப்புதல் தேர்வு 2022 [FRT & SRT-'22], அரசு பொதுத் தேர்வு மே 2022 [May-'22], மற்றும் உடனடித் தேர்வு ஆகஸ்ட் 2022 [Aug-'22] வினாக்கள் ஆங்காங்கே சுட்டிக்காட்டப்பட்டுள்ளன.
- ☞ உடனடித் தேர்வு ஆகஸ்ட் 2022 வினாக்கள் விடைகளுடன் கொடுக்கப்பட்டுள்ளன.



சுரா பப்ளிகேஷன்ஸ்
சென்னை

For Orders Contact



80562 94222 / 81242 01000 / 81243 01000
96001 75757 / 78718 02000 / 98409 26027

orders@surabooks.com

PH: 9600175757 / 8124201000

Send Your Material & Question Answer Our Email ID -kalviexpress@gmail.com

வரலாறு

அலகு 1	முதல் உலகப்போரின் வெடிப்பும் அதன் பின்விளைவுகளும்	1-14	ஜூன்
அலகு 2	இரு உலகப் போர்களுக்கு இடையில் உலகம்	15-27	ஜூலை
அலகு 3	இரண்டாம் உலகப்போர்	28-39	ஜூலை
அலகு 4	இரண்டாம் உலகப்போருக்குப் பிந்தைய உலகம்	40-49	ஆகஸ்ட்
அலகு 5	19ஆம் நூற்றாண்டில் சமூக, சமய சீர்திருத்த இயக்கங்கள்	50-61	ஆகஸ்ட் மற்றும் செப்டம்பர்
அலகு 6	ஆங்கிலேய ஆட்சிக்கு எதிராக தமிழகத்தில் நிகழ்ந்த தொடக்ககால கிளர்ச்சிகள்	62-73	அக்டோபர்
அலகு 7	காலனியத்துக்கு எதிரான இயக்கங்களும் தேசியத்தின் தோற்றமும்	74-86	அக்டோபர்
அலகு 8	தேசியம்: காந்திய காலகட்டம்	87-100	நவம்பர்
அலகு 9	தமிழ்நாட்டில் விடுதலைப் போராட்டம்	101-109	நவம்பர்
அலகு 10	தமிழ்நாட்டில் சமூக மாற்றங்கள்	110-125	நவம்பர் மற்றும் டிசம்பர்

புவியியல்

அலகு 1	இந்தியா - அமைவிடம், நிலத்தோற்றம் மற்றும் வடிகாலமைப்பு	126-142	ஜூன்
அலகு 2	இந்தியா - காலநிலை மற்றும் இயற்கைத் தாவரங்கள்	143-153	ஜூன்
அலகு 3	இந்தியா - வேளாண்மை	154-168	ஜூலை
அலகு 4	இந்தியா - வளங்கள் மற்றும் தொழிலகங்கள்	169-182	ஆகஸ்ட்
அலகு 5	இந்தியா - மக்கள் தொகை, போக்குவரத்து, தகவல் தொடர்பு மற்றும் வணிகம்	183-199	ஆகஸ்ட்
அலகு 6	தமிழ்நாடு - இயற்கைப் பிரிவுகள்	200-217	அக்டோபர்
அலகு 7	தமிழ்நாடு - மானுடப் புவியியல்	218-235	நவம்பர்

குடிமையியல்

அலகு 1	இந்திய அரசியலமைப்பு	236-244	ஜூன்
அலகு 2	நடுவண் அரசு	245-253	ஜூலை
அலகு 3	மாநில அரசு	254-263	ஆகஸ்ட்
அலகு 4	இந்தியாவின் வெளியுறவுக் கொள்கை	264-272	அக்டோபர்
அலகு 5	இந்தியாவின் சர்வதேச உறவுகள்	273-283	நவம்பர்


பொருளியல்

அலகு 1	மொத்த உள்நாட்டு உற்பத்தி மற்றும் அதன் வளர்ச்சி: ஓர் அறிமுகம்	284-294	ஜூன்
அலகு 2	உலகமயமாதல் மற்றும் வர்த்தகம்	295-303	ஜூலை
அலகு 3	உணவு பாதுகாப்பு மற்றும் ஊட்டச்சத்து	304-313	ஆகஸ்ட்
அலகு 4	அரசாங்கமும் வரிகளும்	314-323	அக்டோபர்
அலகு 5	தமிழ்நாட்டில் தொழில்துறை தொகுப்புகள்	324-332	நவம்பர்
ஆகஸ்ட் - 2022 உடனடித் தேர்வு வினாத்தாள் விடைகளுடன்		333-348	

வரலாறு

அலகு
1

முதல் உலகப்போரின்
வெடிப்பும் அதன்
பின்விளைவுகளும்



கற்றலின் நோக்கங்கள்

- ஜெர்மனியின் வல்லரசுகளிடையே பகைமையும் மோதல்களும் ஏற்படுவதற்கு இட்டுச் சென்ற காலனியாதிக்கப் போட்டி.
- கிழக்கு ஆசியாவில் ஜப்பான் அதிக வலிமை மிகுந்த நாடாகவும் ஆக்கிரமிப்பு செய்யும் தன்மை கொண்ட நாடாகவும் மேலெழுதல்.
- காலனியாதிக்கம் ஆப்பிரிக்காவின் மீது தாக்கத்தை ஏற்படுத்துதல்.
- முதல் உலகப்போருக்கான காரணங்கள், போரின் போக்கு, விளைவுகள்.
- வெர்செய்ல்ஸ் உடன்படிக்கையும் அதன் சரத்துக்களும்
- ரஷ்யப் புரட்சிக்கான காரணங்களும் அதன் போக்கும் விளைவுகளும்.
- பன்னாட்டுச் சங்கம் உருவாக்கப்படுதலும் அதன் செயல்பாடுகளும் தோல்வியும்.

பயிற்சி

I. சரியான விடையைத் தேர்வு செய்யவும்

- முதல் உலகப்போரின் இறுதியில் நிலைகுலைந்து போன மூன்று பெரும் பேரரசுகள் யாவை?
அ) ஜெர்மனி, ஆஸ்திரிய-ஹங்கேரி, உதுமானியர் ஆ) ஜெர்மனி, ஆஸ்திரிய-ஹங்கேரி, ரஷ்யா
இ) ஸ்பெயின், போர்ச்சுகல், இத்தாலி ஈ) ஜெர்மனி, ஆஸ்திரிய-ஹங்கேரி, இத்தாலி
[விடை : அ) ஜெர்மனி, ஆஸ்திரிய-ஹங்கேரி, உதுமானியர்]
- பத்தொன்பதாம் நூற்றாண்டு முடிவடையுந்தருவாயில் கிழக்கு ஆசியாவில் உதயமான வலிமை வாய்ந்த நாடு எது?
அ) சீனா ஆ) ஜப்பான் இ) கொரியா ஈ) மங்கோலியா [விடை: ஆ) ஜப்பான்]
- “ஏகாதிபத்தியம் முதலாளித்துவத்தின் உச்ச கட்டம்” எனக் கூறியவர் யார்? [PTA-6; May-'22]
அ) லெனின் ஆ) மார்க்ஸ்
இ) சன் யாட் சென் ஈ) மா சே துங் [விடை: அ) லெனின்]
- மார்ன் போர் எதற்காக நினைவு கூறப்படுகிறது? [FRT-'22]
அ) ஆகாயப் போர்முறை ஆ) பதுங்குக் குழிப் போர்முறை
இ) நீர்மூழ்கிக் கப்பல் போர்முறை ஈ) கடற்படைப் போர்முறை
[விடை : ஆ) பதுங்குக் குழிப் போர்முறை]
- பன்னாட்டுச் சங்கத்தின் முதல் பொதுச் செயலாளர் எந்த நாட்டைச் சேர்ந்தவர்?
அ) பிரிட்டன் ஆ) பிரான்ஸ் இ) டச்சு ஈ) அமெரிக்க ஐக்கிய நாடுகள்
[விடை: அ) பிரிட்டன்]
- பின்லாந்தைத் தாக்கியதற்காக பன்னாட்டுச் சங்கத்திலிருந்து வெளியேற்றப்பட்ட நாடு எது? [Sep-'21]
அ) ஜெர்மனி ஆ) ரஷ்யா இ) இத்தாலி ஈ) பிரான்ஸ் [விடை: ஆ) ரஷ்யா]

IV. பொருத்துக

1.	பிரெஸ்ட் - லிடோவஸ்க் உடன்படிக்கை	-	வெர்செய்ஸ்
2.	ஜிங்கோயிசம்	-	துருக்கி
3.	கமால் பாட்சா	-	ரஷ்யாவும் ஜெர்மனியும்
4.	எம்டன்	-	இங்கிலாந்து
5.	கண்ணாடி மாளிகை	-	சென்னை

விடைகள்
ரஷ்யாவும் ஜெர்மனியும்
இங்கிலாந்து
துருக்கி
சென்னை
வெர்செய்ஸ்

V. சுருக்கமாக விடையளிக்கவும்

- சீன - ஜப்பானியப் போரின் முக்கியத்துவத்தை நீ எவ்வாறு மதிப்பீடு செய்வாய்? [FRT-'22]
(i) 1894 இல் ஜப்பான் சீனாவின் மீது வலுக்கூட்டாயமாக ஒரு போரை மேற்கொண்டது. இச்சீன - ஜப்பானியப் போரில் (1894 - 1895) சீனாவைச் சிறிய நாடான ஜப்பான் தோற்கடித்தது உலகை வியக்க வைத்தது.
(ii) தொடர்ந்து ரஷ்யா, ஜெர்மனி, பிரான்ஸ் ஆகிய வல்லரசுகளின் எச்சரிக்கையை மீறி ஜப்பான் லியோடங் தீபகற்பத்தை ஆர்தர் துறைமுகத்துடன் சேர்த்து இணைத்துக் கொண்டது.
(iii) இந்த நடவடிக்கை மூலம் கிழக்கு ஆசியாவில் தானே வலிமை மிகுந்த அரசு என ஜப்பான் மெய்ப்பித்தது.
- மூவர் கூட்டு நாடுகளின் பெயர்களைக் குறிப்பிடுக. [QY-'19; Aug-'22]
மூவர் கூட்டு நாடுகளின் பெயர்கள் : இங்கிலாந்து, பிரான்ஸ், ரஷ்யா.
- ஐரோப்பிய போர்க்குணம் வாய்ந்த தேசியவாதத்தின் மூன்று வடிவங்கள் எவை? [HY-'19; FRT-'22]
ஐரோப்பியப் போர்க்குணம் வாய்ந்த தேசியவாதத்தின் மூன்று வடிவங்கள் :
(i) இங்கிலாந்து - ஆரவாரமான நாட்டுப்பற்று (jingoism)
(ii) பிரான்ஸ் - அதி தீவிரப்பற்று காண்ட (chauvinism)
(iii) ஜெர்மனி-வெறிகொண்ட நாட்டுப்பற்று (Kultur)
- பதுங்குக் குழிப்போர் முறை குறித்து நீங்கள் அறிந்ததென்ன? [PTA-3; Sep-'21]
பதுங்குக் குழிப்போர் :
(i) போர்வீரர்களால் தோண்டப்படும் பதுங்குக் குழிகள் எதிரிகளின் சுடுதலில் இருந்து தங்களை காத்துக் கொண்டு பாதுகாப்பாக நிற்க உதவின்.
(ii) பிரதானப் பதுங்குக்குழிகள் ஒன்றோடொன்றும் பின்புறமுள்ள குழிகளோடும் இணைக்கப்பட்டிருக்கும். அவற்றின் வழியாக உணவு ஆயுதங்கள், கடிதங்கள், ஆணைகள் ஆகியவை வந்துசேரும். புதிய வீரர்களும் வந்து சேர்வர்.
- முஸ்தபா கமால் பாட்சா வகித்தப் பாத்திரமென்ன? [FRT-'22]
(i) துருக்கி மீண்டும் ஒரு நாடாக மறுபிறவி எடுப்பதற்கு முஸ்தபா கமால் பாட்சா முக்கிய பங்கு வகித்தார்.
(ii) கமால் பாட்சா துருக்கி நாட்டிற்கு விடுதலையை மட்டும் பெற்றுத்தரவில்லை. அவர் துருக்கியை நவீனமயமாக்கி அதை எதிர்மறையான அங்கீகாரத்திலிருந்தும் மாற்றியமைத்தார்.
(iii) சுல்தானியத்திற்கும் கலீபாத்திற்கும் முற்றுப் புள்ளி வைத்தார். சோவியத் யூனியனின் ஆதரவு அவருக்குப் பேருதவியாய் அமைந்தது.
- பன்னாட்டுச் சங்கத்தின் தோல்விக்கான ஏதேனும் இரண்டு காரணங்களைப் பட்டியலிடுக. [PTA-5]
(i) பன்னாட்டுச் சங்கம் முதல் உலகப்போரில் வெற்றி பெற்ற நாடுகளின் அமைப்பாகவே காணப்பட்டது.
(ii) சங்கத்திற்கென்று இராணுவம் இல்லை என்பதால் தான் எடுத்த முடிவுகளை நடைமுறைப்படுத்த அதனால் இயலவில்லை.

VI. பின்வரும் வினாக்களுக்கு விரிவான விடையளிக்கவும்

- முதல் உலகப்போருக்கான முக்கியக் காரணங்களை விவாதி. [PTA-1; HY-'19; Sep-2020 & 21; May-'22]
முதல் உலகப்போருக்கான காரணங்கள் -
அ) ஐரோப்பிய நாடுகளின் அணி சேர்க்கைகளும் எதிர் அணி சேர்க்கைகளும் :
(i) 1900-ல் ஐரோப்பிய வல்லரசுகளில் ஐந்து அரசுகள், இரண்டு ஆயுதமேந்திய முகாம்களாகப் பிரிந்தன.
(ii) ஒரு முகாம் மையநாடுகளான ஜெர்மனி, ஆஸ்திரிய-ஹங்கேரி, இத்தாலி ஆகியவற்றைக் கொண்டிருந்தது. அவை 1882 இல் மூவர் உடன்படிக்கையை மேற்கொண்டன.

4. பன்னாட்டுச் சங்கத்தின் பணிகளை மதிப்பிடுக.

[HY-'19]

பன்னாட்டுச் சங்கத்தின் பணிகள் :

- (i) 1920 - 1925 ஆகிய ஆண்டுகளிடையே பன்னாட்டுச் சங்கம் பல சிக்கல்களைத் தீர்த்து வைக்க அழைக்கப்பட்டது.
- (ii) மூன்று பிரச்சனைகளைத் தீர்த்து வைப்பதில் சங்கம் வெற்றி பெற்றது. 1920 இல் பின்லாந்தின் மேற்குக் கடற்கரைக்கும் சுவீடனின் கிழக்குக் கடற்கரைக்கும் இடையில் அமைந்திருந்த ஆலேண்டு தீவுகள் யாருக்குச் சொந்தம் என்பதில் பின்லாந்திற்கும் சுவீடனுக்குமிடையே பிரச்சனை ஏற்பட்டது.
- (iii) பன்னாட்டுச் சங்கம் அத்தீவுகள் பின்லாந்திற்கே உரியது என தீர்ப்பளித்தது.
- (iv) அடுத்த ஆண்டில் போலந்திற்கும் ஜெர்மனிக்குமிடையே மேலை சைலேஷியா பகுதியில் எல்லைப் பிரச்சினை ஏற்பட்டு, பிரச்சனையைத் தீர்த்து வைக்கச் சங்கம் அழைக்கப்பட்ட போது அப்பிரச்சினையைச் சங்கம் வெற்றிகரமாகத் தீர்த்து வைத்தது.
- (v) 1925 இல் மூன்றாவது பிரச்சனை கிரீஸ் பஸ்கேரியா நாடுகளிடையே ஏற்பட்டதாகும்.
- (vi) 1925 ஆம் ஆண்டு லொக்காரனோ உடன்படிக்கை கையெழுத்தாகின்ற வரை பன்னாட்டுச் சங்கம் வெற்றிகரமாகவே செயலாற்றியது.
- (vii) லொக்காரனோ உடன்படிக்கையின் படி ஜெர்மனி, பிரான்ஸ், பெல்ஜியம், இங்கிலாந்து, இத்தாலி ஆகிய நாடுகள் மேற்கு ஐரோப்பாவில் பரஸ்பரம் அமைதிக்கு உத்தரவாதமளித்தன.
- (viii) இதன் பின்னர் ஜெர்மனி பன்னாட்டுச் சங்கத்தில் இணைந்தது. பாதுகாப்புக் குழுவிலும் நிரந்தர இடமளிக்கப்பட்டது.
- (ix) இரண்டு ஆண்டுகளுக்குப் பின்னர் அமெரிக்காவும் ரஷ்யாவும் சங்கத்தினுடைய அரசியல் அல்லாத நடவடிக்கைகளில் பங்கேற்கத் தொடங்கின.

VII. செயல்பாடுகள்

1. முதல் உலகப்போரில் ஈடுபட்ட நாடுகளின் தலைநகரங்களையும் போர்க்களங்களையும் வரைபடத்தில் குறிப்பதற்கு மாணவர்களுக்குப் பயிற்சி அளித்தல்

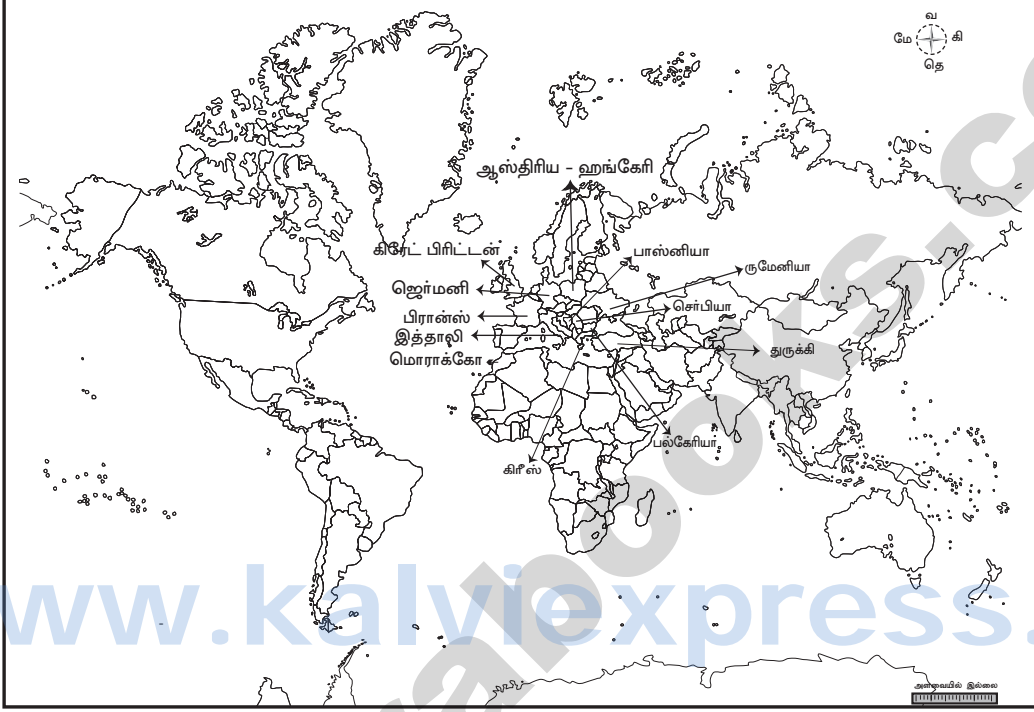


VIII. வரைப்படப் பணி

1. உலக வரைபடத்தில் பின்வரும் நாடுகளைக் குறிக்கவும்.

[PTA-1; *QY-'19]

- | | | | | |
|----------------------|--------------|---------------|-------------|------------------------|
| 1. கிரேட் பிரிட்டன்* | 2. ஜெர்மனி | 3. பிரான்ஸ்* | 4. இத்தாலி* | 5. மொராக்கோ |
| 6. துருக்கி | 7. செப்பியா | 8. பாஸ்தானியா | 9. கிரீஸ் | 10. ஆஸ்திரிய - ஹங்கேரி |
| 11. பல்கேரியா | 12. ருமேனியா | | | |



PTA மாதிரி வினா-விடை

5 மதிப்பெண்கள்

1. பன்னாட்டுச் சங்கத்தின் தோல்விக்கான காரணங்களை குறிப்பிடுக. [PTA-4]
பன்னாட்டுச் சங்கத்தின் தோல்விக்கான காரணங்கள்:
- பன்னாட்டு சங்கம் முதல் உலகப்போரில் வெற்றி பெற்ற நாடுகளின் அமைப்பாகவே காணப்பட்டது.
 - சங்கத்திற்கென்று இராணுவம் இல்லை என்பதால் தான் எடுத்த முடிவுகளை நடைமுறைப்படுத்த அதனால் இயலவில்லை.
 - அமைதிக்கான இவ்வமைப்பை உருவாக்கியவர்கள் தேசியவாதத்தின் உள்ளார்ந்த ஆற்றலை உணர்ந்திருக்கவில்லை. 'கூட்டுப்பாதுகாப்பு' பாதுகாப்பு எனும் கோட்பாட்டை நடைமுறையில் செயல்படுத்தவே முடியவில்லை.
 - சர்வாதிகாரிகளால் தலைமையேற்கப்பட்ட இத்தாலி, ஜப்பான், ஜெர்மனி ஆகிய நாடுகள் சங்கத்தின் ஆணைகளுக்குக் கட்டுப்பட மறுத்தபோது, இங்கிலாந்து, பிரான்ஸ் ஆகிய நாடுகள் மட்டுமே உறுதியாகச் செயல்படும் நிலையிலிருந்தன.

அரசு தேர்வு வினா-விடை

1 மதிப்பெண்

1. ஜூலை 1919-ல் போரில் வெற்றி பெற்ற நாடு [QY-'19]
அ) ஜெர்மனி ஆ) இங்கிலாந்து
இ) ரஷ்யா ஈ) பிரான்ஸ்
[விடை: ஆ) இங்கிலாந்து]
2. எத்தியோப்பியாவின் படைகள் இத்தாலியின் படைகளை எவ்விடத்தில் தோற்கடித்தது? [Sep-2020]
அ) டெல்வில்லி ஆ) ஆரஞ்சு நாடு
இ) அடோவா ஈ) அல்ஜியாஸ்
[விடை: இ) அடோவா]

2 மதிப்பெண்கள்

1. ரஷ்யப் புரட்சியின் உலகளாவிய தாக்கத்தினைக் கோடிட்டுக் காட்டுக. [Sep-2020]
ரஷ்ய கம்யூனிஸ்ட் அரசு காலனி நாடுகளை விடுதலைக்காக போராட உணக்குவித்து அவர்களுக்கு முழுமையாக ஆதரவையும் நல்கியது. நிலச்சீர்திருத்தம், சமூகநலன், தொழிலாளர் உரிமைகள், பாலின சமத்துவம் போன்ற இன்றியமையாதவை குறித்த விவாதங்கள் உலகஅளவில் நடைபெறத் தொடங்கின.

4. மைய நாடுகளின் பெயர்களை எழுதுக.

மைய நாடுகள் அணியில் ஜெர்மனி, ஆஸ்திரியா, ஹங்கேரி, துருக்கி பஸ்கேரியா, ஆகிய நாடுகள் அங்கம் வகித்தன.

5. ஏகாதிபத்தியத்தின் முக்கிய பண்புகளுகளை எழுதுக.

- (i) முதலாளித்துவத்தின் உச்சகட்டமே ஏகாதிபத்தியம் என லெனின் கூறுகிறார். மிகப்பெருமளவிலான உற்பத்தி செய்யப்பட்ட பொருட்களுக்குச் சந்தைகள் மட்டுமல்லாமல் பெருமளவிலான கச்சாப்பொருள்களும் தேவைப்பட்டன.
- (ii) ஏகாதிபத்தியம் என்பது காலனிகளைப்பற்றியது மட்டுமல்ல, அது ஒரு முழுமையான முறையாக இராணுவமயமாக்கத்திற்கும் முழுமையான போருக்கும் இட்டுச்சென்றது.

VI. விரிவான விடையளி 5 மதிப்பெண்கள்

1. ரஷ்யப் புரட்சியின் விளைவுகள் பற்றி விளக்கவும்.

- (i) ரஷ்யக் கம்யூனிஸ்ட் கட்சியால் குறுகிய காலத்தில் ரஷ்யாவில் எழுத்தறிவின்மையும் வறுமையையும் ஒழிக்க முடிந்தது.
- (ii) ரஷ்யாவின் தொழிற்சாலைகளும் வேளாண்மையும் உன்னதமான வளர்ச்சியைப் பெற்றன.
- (iii) வாக்குரிமை முதலாகப் பெண்களுக்கு சம உரிமைகள் வழங்கப்பட்டன.
- (iv) தொழிற்சாலைகளும் வங்கிகளும் தேசியமயமாக்கப்பட்டன.
- (v) நிலம் சமுதாயத்தின் சொத்தாக அறிவிக்கப்பட்டது.
- (vi) ஏழை விவசாயிகளுக்கு நிலங்கள் பகிர்ந்தளிக்கப்பட்டன.
- (vii) போரிலிருந்து விலகாமலிருந்ததே தற்காலிக அரசின் வீழ்ச்சிக்கு முக்கிய காரணம் என லெனின் நினைத்தார்.
- (viii) எனவே, அவர் உடனடியாக அமைதிக்கான முயற்சிகளை மேற்கொண்டார்.
- (ix) மைய நாடுகளின் கடுமையான நிபந்தனைகள் குறித்துக் கவலை கொள்ளாமல், புதிய அரசை உருவாக்குவதில் கவனம் செலுத்துவதற்காக அவர் போரிலிருந்து விலகினார்.
- (x) 1918 ஆம் ஆண்டு பிரெஸ்ட் - லிடோவஸ்க் உடன்படிக்கை கையெழுத்திடப்பட்டது.

தலைப்பின் கீழ் கொடுக்கப்பட்டுள்ள அனைத்துக் கேள்விகளுக்கும் விடையளிக்கவும்.

பால்கன் போர்கள். [GMQP, QY-2019]

அ) பால்கன் கழகம் ஏன் உருவாக்கப்பட்டது?

விடை : மாசிடோனியாவைத் தங்கள் கட்டுப்பாட்டுக்குள் கொண்டு வருவதில் கிரீஸ், செர்பியா, பஸ்கேரியா பின்னர், மாண்ட் நீக்ரோ ஆகிய நாடுகள் இடையே போட்டிகள் நிலவின. 1912 ஆம் ஆண்டு மார்ச் திங்களில் அவை பால்கன் கழகம் என்ற அமைப்பை உருவாக்கின.

ஆ) முதல் பால்கன் போரின் விளைவுகள் யாவை?

- விடை :
- (i) 1913 ஆம் ஆண்டு மே மாதம் லண்டன் உடன்படிக்கையின்படி அல்பேனியா என்ற புதிய நாடு உருவாக்கப்பட்டது. மாசிடோனியாவை ஏனைய பால்கன் நாடுகள் தங்களுக்குள் பகிர்ந்து கொண்டன.
 - (ii) துருக்கி, கான்ஸ்டான்டினோபிளைச் சுற்றியுள்ள பகுதிகளை மட்டும் கொண்ட அரசாகச் சுருக்கப்பட்டது.

இ) இப்போரில் தோற்கடிக்கப்பட்டவர்கள் யாவர்?

விடை : துருக்கியப் படைகள்.

ஈ) இரண்டாவது பால்கன் போரின் இறுதியில் கையெழுத்திடப்பட்ட உடன்படிக்கையின் பெயரென்ன?

விடை : 1913 ஆம் ஆண்டு ஆகஸ்டு திங்களில் கையெழுத்திடப்பட்ட புகாரெஸ்ட் உடன்படிக்கை.



5. வடக்கு மற்றும் தெற்கு வியட்நாம் எந்த ஆண்டு ஒன்று சேர்க்கப்பட்டது? [PTA-3]
அ) 1975 ஆ) 1976 இ) 1973 ஈ) 1974 [விடை : ஆ) 1976]
6. எந்த ஆண்டு வார்சா ஒப்பந்தம் கலைக்கப்பட்டது?
அ) 1979 ஆ) 1989 இ) 1990 ஈ) 1991 [விடை : ஈ) 1991]

II. கோடிட்ட இடங்களை நிரப்புக.

1. நவீன சீனாவின் தந்தை என்று அழைக்கப்படுபவர் _____ ஆவார். [விடை: டாக்டர் சன் யாட் சென்]
2. 1918இல் _____ பல்கலைக்கழகத்தில் மார்க்ஸியக் கோட்பாட்டை அறியும் அமைப்பு நிறுவப்பட்டது. [விடை: பீகிங்]
3. டாக்டர் சன் யாட் சென்னின் மறைவுக்குப் பின்னர் கோமிங்டாங் கட்சியின் தலைவராக இருந்தவர் _____ ஆவார். [விடை: ஷியாங் - கே - ஷேக்]
4. அமைதியையும் பாதுகாப்பையும் விரும்பிய அரபுநாடுகளுக்கு திறந்தே இருந்த ஒப்பந்தம் _____ ஆகும். [விடை: சென்டோ]
5. துருக்கிய அரபுப்பேரரசை ஏற்படுத்தும் நோக்கைக் கொண்டிருந்த ஒப்பந்தம் _____ ஆகும். [விடை: வெர்செயில்ஸ்]
6. ஜெர்மனி நேட்டோவில் _____ ஆம் ஆண்டு இணைந்தது. [விடை: 1955]
7. ஐரோப்பியக் குழுமத்தின் தலைமையகம் _____ நகரில் அமைந்துள்ளது. [GMQP-'19] [விடை: ஸ்ட்ராஸ்பர்க்]
8. ஐரோப்பிய இணைவை உறுதி செய்ய 7 பிப்ரவரி 1992-இல் கையெழுத்திடப்பட்ட ஒப்பந்தம் _____ ஆகும். [விடை: மாஸ்டிரிக்ட்]

III. சரியான வாக்கியம்/வாக்கியங்களைத் தெரிவு செய்ய்க.

1. i) கற்றறிந்த சிறுபான்மையினரின் தாக்கத்தில் சீனாவின் (1898) இளம் பேரரசர் துவக்கிய சீர்திருத்தங்கள் நூறு நாள் சீர்திருத்தம் என்று அறியப்படுகிறது.
ii) கோமிங்டாங் கட்சி தொழிலாளர்களையும் விவசாயிகளையும் பிரதிநிதித்துவப்படுத்தியது.
iii) மஞ்சூரியா மீதும் ஷாண்டிங் மீதும் ஜப்பான் பொருளாதாரக் கட்டுப்பாட்டை விதிக்க யுவான் ஷி-கே உடன்பட்டதால் தேசியவாதிகள் பார்வையில் அவர் செல்வாக்கு இழந்தார்.
iv) சோவியத் நாடு இருபது ஆண்டு காலத்திற்கும் மேலாக சீன் மக்கள் குடியரசை அங்கீகரிக்க மறுத்தது.
அ) (i) மற்றும் (ii) சரி ஆ) (ii) மற்றும் (iii) சரி
இ) (i) மற்றும் (iii) சரி ஈ) (i) மற்றும் (iv) சரி [விடை: இ) (i) மற்றும் (iii) சரி]
2. i) கிழக்கு ஐரோப்பாவில் 1948இல் சோவியத்நாடு நிறுவிய இடதுசாரி அரசுகளை சோவியத் இராணுவம் விடுதலை செய்தது.
ii) வடக்கு அட்லாண்டிக் பகுதியில் அமைதியையும், பாதுகாப்பையும் உறுதி செய்யவே நேட்டோ உருவாக்கப்பட்டது
iii) சீட்டோவின் உறுப்பு நாடுகள் அப்பகுதியில் மக்களாட்சி பரவுவதைத் தடுக்கும் நோக்கோடு செயல்பட்டார்கள்.
iv) ஜப்பானுக்கெதிராக பிரிட்டன் அணுகுண்டைப் பயன்படுத்தியதின் மூலம் அது ரஷ்யாவுக்கு தன்னுடைய அழிக்கும் திறனை எடுத்துக்காட்ட விரும்பியது.
அ) (ii), (iii) மற்றும் (iv) சரி ஆ) (i) மற்றும் (ii) சரி
இ) (iii) மற்றும் (iv) சரி ஈ) (i), (ii) மற்றும் (iii) சரி [விடை: ஆ) (i) மற்றும் (ii) சரி]
3. கூற்று : அமெரிக்காவின் மார்ஷல் திட்டம் போரில் பாதிக்கப்பட்ட ஐரோப்பிய நாடுகளின் மறுநிர்மாணத்திற்காக முன் வைக்கப்பட்டது
காரணம் : அமெரிக்க நாடு அத்திட்டத்தின் மூலம் மேற்கு ஐரோப்பிய நாடுகளைத் தன் செல்வாக்கின் கீழ் கொண்டு வர நினைத்தது. [PTA-2]

2. ஐரோப்பியக் குழுமம் எவ்வாறு ஐரோப்பிய இணைவானது என்ற வரலாற்றை எடுத்தியம்புக. [PTA-4]

ஐரோப்பிய குழுமம் :

- இரண்டாம் உலகப்போருக்குப் பின்வந்த காலத்தில் எடுக்க முயன்ற முடிவுகளில் முக்கியமானது. மேற்கு ஐரோப்பிய நாடுகளை ஒருங்கிணைக்க நினைத்ததேயாகும். அதன் மூலம், ஐரோப்பியர்களுக்கிடையே மூண்ட போர்களைத் தவிர்க்கவும் அதிலும் குறிப்பாக பிரான்சுக்கும் ஜெர்மனிக்கும் ஏற்பட்டுக் கொண்டிருந்த பகைமையை ஒடுக்கவும்,
- ஒருங்கிணைந்த ஐரோப்பாவைக் கொண்டு சோவியத் நாட்டின் அச்சுறுத்தலை எதிர்கொள்ளவும்,
- அமெரிக்க ஐக்கிய நாட்டின் படைகளுக்கும் சோவியத் நாட்டின் படைகளுக்கும் சமமாக ஒரு படைபலத்தை நிறுவவும்,
- கண்டங்களிடையே அல்லது கண்டங்களில் பொருளாதார மற்றும் இராணுவ வளங்களையும் திறன்களையும் முழுதாகப் பயன்படுத்த முடியும் என்று கருதப்பட்டது. பத்து நாடுகள் லண்டனில் மே 1949 இல் கூடி ஐரோப்பிய சமூகத்தை உருவாக்க கையொப்பமிடப்பட்டன.

ஐரோப்பிய நிலக்கரி மற்றும் எஃகு சமூகம் :

- ஐரோப்பியப் பாதுகாப்பு சமூகமும் ஐரோப்பிய நிலக்கரி மற்றும் எஃகு சமூகமும் துவங்கப்பட்டன.
- ஐரோப்பிய நிலக்கரி மற்றும் எஃகு சமூகத்தைச் சேர்ந்த ஆறு நாடுகள் (பிரான்ஸ், மேற்கு ஜெர்மனி, இத்தாலி, பெல்ஜியம், ஹாலாந்து, லக்ஸம்பர்க்) கூடி ரோம் ஒப்பந்தத்தை ஏற்படுத்தியதோடு அதன் மூலம் ஐரோப்பியப் பொருளாதார சமூகம் அல்லது ஐரோப்பியப் பொதுச்சந்தையை பிரெஸெல்ஸ் நகரைத் தலைமையகமாகக் கொண்டு ஏற்படுத்தின.

ஐரோப்பிய பொருளாதார சமூகம் :

- இச்சமூகம் பண்டங்கள், சேவைகள், முதலீடு, தொழிலாளர்கள் போன்றவற்றின் நகர்வை எல்லைகள் கொண்டு நிறுத்துவதை மாற்றியது.
- சந்தைப்போட்டியைக் கட்டுக்குள் கொண்டுவர முயன்ற போது கொள்கைகளையும் தனியார் ஒப்பந்தங்களையும் புறக்கணித்தது.

ஒற்றை ஐரோப்பியச் சட்டம் : ஒற்றை ஐரோப்பியச் சட்டம் 1 ஜூலை 1987-இல் நடைமுறைக்கு வந்தது. அது ஐரோப்பியப் பொருளாதார சமூகத்தின் எல்லைகளை விரிவாக்கி அதற்கு சட்டவடிவம் கொடுத்தது.

ஐரோப்பிய ஒன்றியம் :

- 1992 பிப்ரவரி 7இல் கையெழுத்திடப்பட்ட மாஸ்டிரிக்ட் (நெதர்லாந்து) ஒப்பந்தம் ஐரோப்பிய ஒன்றியத்தை ஏற்படுத்தியது.
- பொதுவான நீதிக் கொள்கையும் நாடுகள் வழங்கிய பணத்தை மீறிய பொதுவாக ஏற்றுக் கொள்ளப்பட்ட பணமும் (யூரோ) முதலில் நடைமுறைப்படுத்தப்பட்டு பின்னர் அவற்றை நிர்வகிக்கும் பொது நிறுவனங்களுக்கும் திட்டமிடப்பட்டு நடைமுறைப்படுத்தப்பட்டன.
- தற்போது ஐரோப்பிய ஒன்றியத்தில் 28 உறுப்பு நாடுகள் உள்ளன. பிரெஸெல்ஸ் நகரைத் தலைமையகமாகக் கொண்டு செயல்பட்டு வருகின்றன.

PTA மாதிரி வினா-விடை

1 மதிப்பெண்

1. வம்போவா இராணுவக் கழகத்தின் முதல் இயக்குனர் யார்? [PTA-1; HY-'19]

- | | |
|----------------------|-------------------|
| அ) சன் யாட் சென் | ஆ) ஷியாங் கே-ஷேக் |
| இ) மைக்கேல் பொரோடின் | ஈ) சூ-யென்-லாய் |

[விடை : ஆ) ஷியாங் கே - ஷேக்]

2 மதிப்பெண்கள்

1. 'பெர்லின் சுவர்' - சிறுகுறிப்பு வரைக. [PTA-1]

- மார்ஷல் திட்டத்தின் துணையால் மேற்கு பெர்லினின் பொருளாதாரம் செழித்தோங்கியது. இதனால் கிழக்கு பெர்லின் மக்கள் மேற்கு பெர்லினுக்கு அதிக அளவில் இடம்பெயரத் தொடங்கினர்.
- இச்சூழலில் 1961இல் கிழக்கு ஜெர்மனி ஒரு சுவரை எழுப்பி கிழக்கு பெர்லின் மற்றும் அதன் சுற்றுப்புறப் பகுதிகளுக்கும் மேற்கு பெர்லினுக்கும் இருந்த தொடர்பை நிறுத்தியது.
- காவல் கோபுரங்கள் எழுப்பப்பட்டு பயங்கர ஆயுதங்களின் துணையோடு கடுமையானக் கண்காணிப்புப் பணியின் மூலம் கிழக்கிலிருந்து மக்கள் நுழைவது தவிர்க்கப்பட்டு வந்தது.

5 மதிப்பெண்கள்

1. சூயஸ் கால்வாய் சிக்கலைப் பற்றி நீவிர் அறிந்ததென்ன? [PTA-6]
 - (i) எகிப்தில் 1952இல் நிகழ்ந்த ஓர் இராணுவக் கிளர்ச்சியின் மூலமாக கர்னல் நாசர் குடியரசுத் தலைவராக ஆக்கப்பட்டார்.
 - (ii) அவர் 1956ஆம் ஆண்டில் சூயஸ் கால்வாயை தேசியமாக்கினார். இது பிரிட்டிஷாரின் நல்லெண்ணெய்திறகு விரோதமாகத் தெரிந்தது.
 - (iii) இராஜதந்திரப் பிரயோகங்கள் பலனளிக்காத நிலையில் பிரிட்டனும் பிரான்சும் இணைந்து இராணுவ பலத்தைப் பயன்படுத்த முடிவு செய்தன. இச்சூழலில் தனக்கு ஒரு வாய்ப்பு இருப்பதாகக் கருதிய இஸ்ரேல் தனது கப்பல் போக்குவரத்திற்கு வசதியாக அக்கபா வளைகுடாவை திறந்து விட்டதோடு அதன் மூலம் எகிப்தின் எல்லை மீறிய செயல்களுக்கு முற்றுப்புள்ளி வைத்தது.
 - (iv) இஸ்ரேலியப் படைகள் அக்டோபர் 29இல் எகிப்து மீது படையெடுத்தன. இவ்வாய்ப்பைப் பயன்படுத்திக்கொள்ள நினைத்த பிரிட்டன் தனது படைகளைக் கால்வாயைக் காப்பாற்றும் வகையில் நிறுத்தி வைக்க அனுமதி கோரியது.
 - (v) இதற்கு எகிப்து மறுத்ததால் அக்டோபர் 31இல் பிரிட்டனும் பிரான்சும் இணைந்து அந்நாட்டின் விமானத்தளங்கள் மீதும் இன்னபிற முக்கியத்தளங்கள் மீதும் சூயஸ்கால்வாய்ப் பகுதியிலும் குண்டு வீசின. எனினும் உலக நாடுகளின் வற்புறுத்தலின்பேரில் நவம்பர் 6ஆம் தேதி பிரான்சும் பிரிட்டனும் தங்கள் எதிர்ப்பை நிறுத்திக் கொண்டன.

அரசு தேர்வு வினா-விடை

1 மதிப்பெண்

1. அணிசேரா இயக்கத்தின் மாநாட்டில் இந்திய பிரதிநிதியாக கலந்து கொண்டவர் : [Sep-'21; SRT-'22]
 - அ) லால்பகதூர் சாஸ்திரி
 - ஆ) மோதிலால் நேரு
 - இ) ஜவஹர்லால் நேரு
 - ஈ) வல்லபாய் பட்டேல்

[விடை: இ) ஜவஹர்லால் நேரு]



கூடுதல் வினாக்கள்

I. சரியான விடையைத் தேர்ந்தெடுத்து எழுதுக. 1 மதிப்பெண்

1. சீனாவில் புரட்சி ஏற்பட காரணமாக இருந்தது.
 - அ) முதலாம் உலகப்போர்
 - ஆ) இரண்டாம் உலகப்போர்
 - இ) மூன்றாவது உலகப் போர்
 - ஈ) நான்காம் உலகப்போர்

[விடை: ஆ) இரண்டாம் உலகப்போர்]
2. தைபிங் கலகத்தில் வதைக்கப்பட்ட மக்கள்.
 - அ) ஒரு கோடி மக்கள்
 - ஆ) இரண்டு கோடி மக்கள்
 - இ) மூன்று கோடி மக்கள்
 - ஈ) நான்கு கோடி மக்கள்

[விடை: ஆ) இரண்டு கோடி மக்கள்]
3. கோயிஸ்டாங்கின் தலைவர்.
 - அ) ஷியாங் கே - ஷேக்
 - ஆ) மா-சே-துஸ்
 - இ) யுவான் - ஷி - கே
 - ஈ) நாசர்

[விடை: அ) ஷியாங் கே - ஷேக்]
4. பனிப்போர் என்ற சொல்லாடலைக் கையாண்டவர்.
 - அ) மார்ஷல்
 - ஆ) ஜார்ஜ் ஆர்வென்
 - இ) ட்ரூமென்
 - ஈ) உட்ரோ வில்சன்

[விடை: அ) மார்ஷல்]
5. சென்டோ (CENTO) என்பது
 - அ) மணிலா ஒப்பந்தம்
 - ஆ) பாக்தாத் ஒப்பந்தம்
 - இ) வார்சா ஒப்பந்தம்
 - ஈ) இவற்றில் எதுவுமில்லை

[விடை: ஆ) பாக்தாத் ஒப்பந்தம்]

II. கோடிட்ட இடங்களை நிரப்புக

1. சீனாவில் ஓர் புரட்சி ஏற்படக் காரணமாக இருந்தது _____ [விடை : இரண்டாம் உலகப்போர்]
2. பனிப்போரானது _____, _____, _____ போன்ற பகுதிகளில் கொடும் போர்கள் நடக்க உந்து சக்தியாக இருந்தது. [விடை : கொரியா, கியூபா, வியட்நாம்]
3. மஞ்சக்கள் சீனாவை ஏறக்குறைய _____ ஆண்டுகள் ஆட்சி புரிந்திருந்தார்கள். [விடை : 1650]
4. டாக்டர் சன்யாட் சென் நவீன _____ தந்தை என்று அழைக்கப்பெற்றார். [விடை : சீனாவின்]

IV. பொருத்துக

1.	1. வார்சா உடன்படிக்கை	அ)	பாக்தாத் ஒப்பந்தம்
	2. மாஸ்கோ	ஆ)	1961
	3. சென்டோ	இ)	1945
	4. அணாசேரா இயக்கம்	ஈ)	1955 மே 14
	5. அரேபிய கூட்டமைப்பு	உ)	கூட்டு ராணுவ முகாம்

[விடை : 1. ஈ, 2. உ, 3. அ, 4. ஆ, 5. இ]

2.	1. தைபிங் கலகம்	அ)	1934
	2. ரஷ்யப்புரட்சி	ஆ)	1951
	3. மாவோ நீண்ட பயணம்	இ)	1897
	4. மார்ஷல் திட்டம் முடிவு	ஈ)	1917
	5. உலக சீயோனிய அமைப்பு	உ)	1850-64

[விடை : 1. உ, 2. ஈ, 3. அ, 4. ஆ, 5. இ]

V. சுருக்கமாக விடையளிக்கவும் 2 மதிப்பெண்கள்

1. 'டாக்டர் சன்யாட் சென்' பற்றி சிறு குறிப்பு வரைக.
 - (i) டாக்டர் சன்யாட் சென் 1866 ஆம் ஆண்டு ஒரு ஏழ்மையான குடும்பத்தில் காண்டன் நகரத்தின் அருகே பிறந்தார்.
 - (ii) இவர் 'சீனாவின் தந்தை' என அழைக்கப் பெற்றார். ஒரு கிறிஸ்தவப் பள்ளியில் கல்வி பெற்றதோடு கிறிஸ்தவராகவும் மாறினார். ஹாங்காங் நகரில் மருத்துவப் பயிற்சி பெற்றார். மஞ்சுக்களுக்கு எதிரான கிளர்ச்சியில் ஈடுபட்டார். அவர் 1905 ஆம் ஆண்டு டோக்கியோவில் ஒரு அரசியல் கட்சியைத் துவக்கினார்.
2. சீட்டோ (SEATO) அல்லது மணிலா ஒப்பந்தம் பற்றி சிறு குறிப்பு வரைக.
 - (i) மணிலா ஒப்பந்தம் 1954 அமெரிக்க ஐக்கிய நாடு, பிரான்ஸ், இங்கிலாந்து, நியூஸிலாந்து, ஆஸ்திரேலியா, பிலிப்பைன்ஸ், தாய்லாந்து மற்றும் பாகிஸ்தான் போன்ற நாடுகளால் கையெழுத்திடப்பட்டது.
 - (ii) இவ்வொப்பந்தத்தின் உறுப்பு நாடுகள் இப்பகுதியில் பொதுவுடைமைச் சிந்தனை பரவுவதையும் அக்கொள்கை செல்வாக்குப் பெறுவதையும் தடுப்பதற்காக ஏற்படுத்தப்பட்டது.
 - (iii) ஆனால் நேட்டோ கூட்டமைப்பில் இருந்தது போன்று நிரந்தரப் படைகளையோ, ஒருங்கிணைந்த கட்டுப்பாட்டையோ சீட்டோ கொண்டிருக்கவில்லை.
3. கியூபாவின் புரட்சிப் பற்றி எழுதுக.
 - (i) அமெரிக்க ஐக்கிய நாடு மத்திய அமெரிக்காவிலும் (ஹொண்டூரஸ், எல் சல்வதோ, நிகரகுவா, பனாமா, க்வாத்தமாலா), கரீபியப் பகுதியிலும், (கியூபா, டோமினியக் குடியரசு, ஹைதி) கிழக்கு ஆசியாவிலும்

(பிலிப்பைன்ஸ், தென் கொரியா, தெற்கு வியட்நாம், தாய்லாந்து) தனக்கு துணைக் கோள்களாகச் சுற்றிச் செயல்படும் நாடுகளைக் கொண்டிருந்தது.

(ii) இந்நாடுகள் இராணுவ அதிகாரிகளாலும் பெரும் நிலச்சுவான்தார்களாலும் சில சூழ்நிலைகளில் பெரு முதலாளிகளாலும் ஆட்சி செய்யப்பட்டு வந்தன.

4. பெரிஸ்ட்ரோய்கா பற்றி சிறுகுறிப்பு வரைக.

- (i) பெரிஸ்ட்ரோய்கா (மறுகூட்டமைப்பு) என்பது மிக்கேல் கோர்ப்சேவால் சோவியத் நாட்டின் பொருளாதாரத்தையும், அரசியல் அமைப்பையும் மறுசீரமைப்பிற்கு உட்படுத்த 1980களின் கடைசியில் அறிமுகப்படுத்தப்பட்ட ஒன்றாகும்.
- (ii) வளர்ச்சியடைந்த முதலாளித்துவ நாடுகளின் முன்னேற்றத்திற்கு சோவியத்தின் பொருளாதாரம் ஈடுகொடுக்கும்படி அதற்குப் புத்துணர்வு ஊட்ட வெளிப்படைத்தன்மை (Glasnost) கொள்கையோடு அறிமுகப்படுத்தப்பட்டதே பெரிஸ்ட்ரோய்கா ஆகும்.

VI. விரிவான விடையளி 5 மதிப்பெண்கள்

1. அரபு - இஸ்ரேல் போர் பற்றி ஒரு பத்தியளவில் எழுதுக.
 - (i) வெர்செய்ல்ஸ் உடன்படிக்கையின் (1919) மூலம் துருக்கிய அரபுப் பேரரசை உருவாக்க நிர்ப்பந்திக்கப்பட்டது.
 - (ii) பிரான்ஸ் நாடு சிரியாவையும் லெபனானையும் ஒருங்கிணைக்கவும் பிரிட்டன் நாடு ஈராக், பாலஸ்தீன், ஜோர்டான் ஆகிய நாடுகளை ஒருங்கிணைக்கவும் ஏற்பாடானது.
 - (iii) முதலாம் உலகப்போருக்குப் பின் சுதந்திரத்தை எதிர்பார்த்த அரேபியர்கள் இவ்வேற்பாட்டால் அதிர்ச்சியடைந்தனர்.

- (iv) சீயோனிய இயக்கத் தலைவர்களுக்கு பிரிட்டன் நாடு பாலஸ்தீனத்தின் பகுதிகளை யூதக் குடியிருப்புகளுக்கு வழங்க உறுதியளித்தது.
- (v) யூதர்கள் அரேபியரின் எந்த ஒரு கிளர்ச்சியையும் பிரிட்டனுடன் சேர்ந்து ஒடுக்க உறுதியளித்தனர்.
- (vi) வசதியான அரேபியரிடம் நிலங்களை விலைபேசிப் பெற்றுக் கொண்ட யூதர்கள் அங்கே பல தலைமுறைகளாக வேளாண்மை செய்து வந்தவர்களை விரட்டியதால் அரேபியர்களின் வெறுப்புணர்ச்சியும் எதிர்ப்பும் மிகுந்தது.
- (vii) 1945 அக்டோபர் கடைசியில் யூதத் தீர்மானறைவு அமைப்புகளான இரூன் ஸ்வாய் லூமி (சீயோனியத் துணை இராணுவ அமைப்பு) ஸ்டென் காங்கும் (சீயோனிய பயங்கரவாத அமைப்பு) தொடர்ச்சியாக பயங்கரவாதத் தாக்குதல்களை பெருமளவில் தொடுத்தன.
- (viii) இருப்புப்பாதைகள், பாலங்கள், விமானத்தளங்கள், அரசு அலுவலகங்கள் போன்றவை வெடி வைத்துத் தகர்க்கப்பட்டன.
- (ix) பிரிட்டிஷ் அரசு பிரச்சனையை ஐ.நா. சபைக்கு எடுத்துச் சென்று தீர்வு கோரியது. ஐ.நா. சபையும் அதற்கு உடன்பட்டு பிரிவினைக்குச் சம்மதித்தது. பிரிட்டன் தனது துருப்புகளை விலக்கிக் கொள்ள முடிவு செய்த போது அங்கு மீண்டும் சண்டை மூண்டது.
- (x) இஸ்ரேலியர்கள் ஜெருசலேம்க்குச் செல்லும் முக்கிய சாலையைக் கைப்பற்றிய பின் அதை மீட்க அரேபியர்கள் மேற்கொண்ட பல முயற்சிகளையும் வெற்றிகரமாக முறியடித்தனர்.

2. அரேபியர்களுக்கும் இஸ்ரேலியர்களுக்கும்ிடையே மூண்ட 1967 மற்றும் 1973 ஆம் ஆண்டு போர்களைப் பற்றி ஒரு கட்டுரை வரைக.

அரபு - இஸ்ரேல் போர் 1967 :

- (i) பாலஸ்தீனிய விடுதலை அமைப்பு உருவானது முதல் சிரியா, லெபனான், ஜோர்டான் ஆகிய நாடுகளில் பதுங்கியிருந்த பாலஸ்தீனிய கொகாஸ்தீனியப் படைகள் இஸ்ரேலைத் தாக்கி வந்தன.
- (ii) இஸ்ரேல் புதிலடி கொடுத்து வந்தது. ஜோர்டானின் மேற்குக் கரையில் அமைந்திருந்த அல்-சமூ என்ற கிராமத்தில் மீது நவம்பர் 1966-ல் இஸ்ரேல் விமானதாக்குதல் நடத்தி, 18 பேர் உயிரிழக்கவும், 54 பேர் காயங்கள் அடையும் படியும் செய்தது.
- (iii) சிரியாவுடன் ஏப்ரல் 1967-ல் நடந்த வான்வெளித் தாக்குதலில் ஆறு சிறிய மிக் ரகப் போர் விமானங்கள் சுட்டு வீழ்த்தப்பட்டன.
- (iv) மே 22ந் தேதி அக்கபா வளைகுடாவை வளைத்து அங்கு இஸ்ரேலியக் கப்பல்கள் நுழைய முடியாதபடி செய்தார்.
- (v) ஜோர்டானின் மன்னர் ஹுசைன் எகிப்தோடு பரஸ்பர இராணுவ ஒப்பந்தங்களை ஏற்படுத்திக் கொண்டார். இதன் படி ஜோர்டானியப் படைகள் எகிப்தின் கட்டளைக்கு அடிபணியச் சம்மதித்தன.
- (vi) சிறிது காலத்தில் ஈராக்கும் இக்கூட்டணியில் இணைந்தது.

அரபு இஸ்ரேல் போர் 1973 :

- (i) தங்களின் படைகளை ஒரே கட்டுப்பாட்டுக்குள் கொண்டு வரும் நோக்கோடு எகிப்தின் அதிபர் அன்வர் சாதத்தும் சிரியாவின் அதிபர் ஹபீஸ் அல் ஆஸாத்தும் ஜனவரி 1973 ஆம் ஆண்டு ஒரு இரகசிய ஒப்பந்தத்தை ஏற்படுத்திக் கொண்டனர். சாதத் சினாய் மலையை விட்டு இஸ்ரேல் விலகினால் தாம் அமைதி உடன்படிக்கைக்குத் தயாராய் இருப்பதாகத் தெரிவித்தார்.
- (ii) இதற்கு இஸ்ரேல் இணங்கவில்லை. ஆகவே எகிப்தும் சிரியாவும் யோம் கிப்பூர் சமய விடுமுறையன்று (6 அக்டோபர் 1973) ஒரு எதிர்பாராத திடீர் தாக்குதலை இஸ்ரேல் மீது தொடுத்தனர். இத்தாக்குதலில் இஸ்ரேல் கடும் பின்னடைவைச் சந்தித்த போதும் அதனால் அரபுப் படைகளை புறந்தள்ள முடிந்தது.
- (iv) இப்போரினால் அரேபியர்களும் எந்த லாபமும் பெற முடியவில்லை. இப்பிரச்சனையில் நடுவராகச் செயல்படும் போர்வையில் அமெரிக்க ஐக்கிய நாடு தனது ஆதிக்கத்தை அரபு நாடுகள் மீதும் அங்கே அமையப் பெற்ற எண்ணெய்க் கிணறுகள் மீதும் நிறுவியது.

3. தலைப்பின் கீழ் கொடுக்கப்பட்டுள்ள அனைத்துக் கேள்விகளுக்கும் விடையளிக்கவும்.

அணிசேரா இயக்கம்

[QY-'19]

அ) அணிசேரா இயக்கத்தின் முதல் மாநாடு எங்கே எப்போது நடைபெற்றது?

விடை : 1961 - ல் பெல்கிரேடில் கூடியது.

ஆ) முதல் மாநாட்டில் கலந்து கொண்ட முக்கியப் பிரமுகர்கள் யாவர்?

விடை : டிடோ (யுகோஸ்லோவியா) நாசர் (எகிப்து), நேரு (இந்தியா), நுக்ருமா (கானா), சுகர்ணோ (இந்தோனேசியா).

இ) அணிசேரா இயக்கத்தின் குறிக்கோள்கள் என்ன? விடை :

(i) புதிதாக அரசியல் சுதந்திரம் பெற்ற ஆசிய ஆப்பிரிக்க நாடுகள் 1955-ம் ஆண்டு பாண்டுங்கில் (இந்தோனேசியா) கூடி இரு வல்லரசு அணிகளிலும் சேரக்கூடாது என்பதை தீவிரமாக வலியுறுத்தின.

(ii) மேலும் அவை காலனிய ஆதிக்கமும் ஏகாதிபத்தியமும் எவ்வடிவம் எடுத்தாலும் அதை எதிர்த்து நிற்பது என்ற முடிவு செய்தன.

ஈ) அணிசேரா இயக்கத்தின் பெல்கிரேட் மாநாட்டில் கொண்டுவரப்பட்ட இரு அடிப்படைக் கொள்கைகளைக் கூறுக.

விடை : அமைதியோடு இணைந்திருத்தல், அமைதியையும் பாதுகாப்பையும் முன்னிறுத்தப் பாடுபடல், எந்த அணியோடும் இராணுவக் கூட்டுறவுக் கொள்ளாமல் இருத்தல், எந்த வல்லரசுக்கும் தத்தம் நாட்டிற்குள் இராணுவ நிலைகள் ஏற்படுத்த அமைதி வழங்காமல் இருத்தல் போன்றவையே ஆகும்.



அலகுத் தேர்வு

நேரம் : 60 நிமிடங்கள்

மதிப்பெண்கள் : 25

I. சரியான விடையைத் தேர்ந்தெடுத்து எழுதுக.

(3 × 1 = 3)

- எந்த அமெரிக்கக் குடியரசுத் தலைவர் பொதுவுடைமைக் கொள்கையைக் கட்டுக்குள் அடக்க ஒரு கொள்கை வரவை முன் வைத்தார்?
அ) உட்ரோ வில்சன் ஆ) ட்ரூமென் இ) பிராங்க்லின் ரூஸ்வெல்ட் ஈ) தியோடர் ரூஸ்வெல்ட்
- அமெரிக்க ஐக்கிய நாடும் அதன் ஐரோப்பிய நேச நாடுகளும் சேர்ந்து சோவியத் நாட்டின் ஆக்கிரமிப்பைத் தவிர்க்க ஏற்படுத்திய அமைப்பின் பெயர்
அ) சியாட்லோ ஆ) நாட்டோ இ) சென்டோ ஈ) வார்சா ஒப்பந்தம்
- அரேபிய கூட்டமைப்பு எவ்விடத்தில் ஏற்படுத்தப்பட்டது?
அ) கெய்ரோ ஆ) ஜோர்டான் இ) லெபனான் ஈ) சிரியா

II. கோடிட்ட இடங்களை நிரப்புக.

(3 × 1 = 3)

- நவீன சீனாவின் தந்தை என்று அழைக்கப்படுபவர் _____ ஆவார்.
- ஜெர்மனி நேட்டோவில் _____ ம் ஆண்டு இணைந்தது
- ஐரோப்பியக் குழுமத்தின் தலைமையகம் _____ நகரில் அமைந்துள்ளது

III. சரியான கூற்றைத் தேர்வு செய்யவும்.

(1 × 1 = 1)

- கிழக்கு ஐரோப்பாவில் 1948இல் சோவியத்நாடு நிறுவிய இடதுசாரி அரசுகளை சோவியத் ராணுவம் விடுதலை செய்தது.
 - வடக்கு அட்லாண்டிக் பகுதியில் அமைதியையும் பாதுகாப்பையும் உறுதி செய்யவே நேட்டோ உருவாக்கப்பட்டது.
 - சீட்டோவின் உறுப்பு நாடுகள் அப்பகுதியில் மக்களாட்சி பரவுவதை தடுக்கும் நோக்கோடு செயல்பட்டார்கள்.
 - ஜப்பானுக்கெதிராக பிரிட்டன் அணுகுண்டைப் பயன்படுத்தியதன் மூலம் அது ரஷ்யாவுக்கு தன்னுடைய அழிக்கும் திறனை எடுத்துக்காட்ட விரும்பியது.
அ) (i), (iii) மற்றும் (iv) ஆகியவை சரி ஆ) (i) மற்றும் (ii) மட்டும் சரி
இ) (i) (ii) மற்றும் சரியானவை இ) அனைத்தும் சரியானவை

IV. பொருத்துக.

(5 × 1 = 5)

- டாக்டர் சன் யாட்சென் - அ) தெற்கு வியாட்நாம்
- சிங்மென் ஈ - ஆ) கோமிங்டாங்
- அன்வர் சாதத் - இ) கொரியா
- ஹோ சி மின் - ஈ) எகிப்து
- நிகோ டின் டியம் - உ) வடக்கு வியட்நாம்

V. சுருக்கமாக விடையளிக்கவும்.

(4 × 2 = 8)

- சீனாவில் 1911ஆம் ஆண்டில் நடந்த புரட்சிக்கு ஏதேனும் மூன்று காரணிகளைக் குறிப்பிடுக.
- மார்ஷல் தீட்டம் என்றால் என்ன?
- பாக்தாத் உடன்படிக்கை பற்றி அறிந்ததை எழுதுக.
- கியூபாவின் ஏவுகணைச் சிக்கல் எவ்வாறு செயலிழக்கச் செய்யப்பட்டது?

VI. விரிவான விடையளிக்கவும்.

(1 × 5 = 5)

- ஐரோப்பியக்குழுமம் எவ்வாறு ஐரோப்பிய இணைவானது என்ற வரலாற்றை எடுத்தியம்புக.

விடைகள்

- | | | | |
|------|-------------------------------------|-----------------------------------|------------------|
| I. | 1. ஆ) ட்ரூமென் | 2. ஆ) நாட்டோ | 3. அ) கெய்ரோ |
| II. | 4. டாக்டர் சன் யாட்சென் | 5. 1955 | 6. ஸ்ட்ராஸ்பர்க் |
| III. | 7. ஆ) (i) மற்றும் (ii) மட்டும் சரி | | |
| IV. | 8. கோமிங்டாங் | 9. கொரியா | 10. எகிப்து |
| | 11. வடக்கு வியாட்நாம் | 12. தெற்கு வியாட்நாம் | |
| V. | 13. பார்க்க சுராவின் கையேடு V - 1 | 14. பார்க்க சுராவின் கையேடு V - 4 | |
| | 15. பார்க்க சுராவின் கையேடு V - 3 | 16. பார்க்க சுராவின் கையேடு V - 6 | |
| VI. | 17. பார்க்க சுராவின் கையேடு VI - 2. | | |



அலகு 8

தேசியம்: காந்திய காலகட்டம்



கற்றலின் நோக்கங்கள்

நாம் கீழ்க்கண்டவகளைப் பற்றி அறிந்து கொள்ள:

- இந்திய விடுதலைப் போராட்டத்தில் காந்திய காலகட்டம்
- இந்தியாவில் மக்களை ஒன்றிணைக்க அகிம்சை மற்றும் சத்தியாகிரகம் ஆகிய காந்தியக் கொள்கைகள் பயன்படுத்தப்பட்டு சோதிக்கப்பட்ட காலகட்டம்
- சம்பரான் மற்றும் ரௌலட் சட்டம் ஆகியவற்றுக்கு எதிரான வன்முறையற்ற போராட்டங்கள்.
- ஒத்துழையாமை இயக்கம் மற்றும் அதன் வீழ்ச்சி
- தீவிரத்தன்மை கொண்டவர்களும் தீவிர தேசியவாதப் போக்கு உடையவர்களின் தோற்றமும் விடுதலைப் போராட்டத்தில் அவர்கள் ஆற்றிய பங்களிப்பும்.
- சட்டமறுப்பு இயக்கத்தின் தொடக்கம்
- தனித்தொகுதிகள் குறித்த சர்ச்சை மற்றும் பூனா ஒப்பந்தம் கையெழுத்திடப்படுதல்.
- மாகாணங்களில் முதலாவதாக அமைந்த காங்கிரஸ் அமைச்சரவைகள் மற்றும் வெள்ளையனே வெளியேறு இயக்கம் தோன்றுவதற்கான சூழ்நிலைகள்
- இந்தியத் துணைக்கண்டத்தை இந்தியா-பாகிஸ்தான் என இரண்டாகப் பிரிவினை செய்ய வழிவகுத்த வகுப்புவாதம்.

பயிற்சி

I. சரியான விடையைத் தேர்வு செய்யவும்

1. அமிர்தசரஸில் ரௌலட் சட்ட எதிர்ப்புப் போராட்டங்களின் போது கைது செய்யப்பட்டவர் யார்?
அ) மோதிலால் நேரு ஆ) சைஃபுதீன் கிஸ்லு [HY-'19]
இ) முகம்மது அலி ஈ) ராஜ் குமார் சக்லா
[விடை : ஆ) சைஃபுதீன் கிஸ்லு]
2. இந்திய தேசிய காங்கிரசின் எந்த அமர்வில் ஒத்துழையாமை இயக்கத்துக்கு அனுமதி வழங்கப்பட்டது?
அ) பம்பாய் ஆ) மதராஸ் இ) கல்கத்தா ஈ) நாக்பூர்
[விடை : இ) கல்கத்தா]
குறிப்பு : அனுமதி வழங்கப்பட்டது - கல்கத்தா, தீர்மானம் நிறைவேற்றப்பட்டது - நாக்பூர்
3. விடுதலை நாளாக கீழ்க்கண்டவற்றில் எந்த நாள் அறிவிக்கப்பட்டது?
அ) 1930 ஜனவரி 26 ஆ) 1929 டிசம்பர் 26
இ) 1946 ஜூன் 16 ஈ) 1947 ஜனவரி 15
[விடை : அ) 1930 ஜனவரி 26]

4. முதலாவது வனங்கள் சட்டம் எந்த ஆண்டில் இயற்றப்பட்டது? [PTA-1]
அ) 1858 ஆ) 1911 இ) 1865 ஈ) 1936 [விடை : இ) 1865]
5. 1933 ஜனவரி 8 எந்த நாளாக அனுசரிக்கப்பட்டது?
அ) கோவில் நுழைவு நாள் ஆ) மீட்பு நாள் (டெலிவரன்ஸ் டே)
இ) நேரடி நடவடிக்கை நாள் ஈ) சுதந்திரப் பெருநாள்
[விடை : அ) கோவில் நுழைவு நாள்]
6. மாகாண தன்னாட்சியை அறிமுகம் செய்த சட்டம் எது? [PTA-5]
அ) 1858ஆம் ஆண்டு சட்டம் ஆ) இந்திய கவுன்சில் சட்டம், 1909
இ) இந்திய அரசுச் சட்டம், 1919 ஈ) இந்திய அரசுச் சட்டம், 1935
[விடை : ஈ) இந்திய அரசுச் சட்டம், 1935]

II. கோடிட்ட இடங்களை நிரப்புக

1. காந்தியடிகளின் அரசியல் குரு _____ ஆவார். [விடை: கோபால கிருஷ்ண கோகலே]
2. கிலாபத் இயக்கத்துக்கு _____ தலைமை ஏற்றார். [விடை: அலி சகோதரர்கள்]
3. 1919 ஆம் ஆண்டின் இந்திய அரசுச் சட்டம் மாகாணங்களில் _____ அறிமுகம் செய்தது. [விடை: இரட்டை ஆட்சியை]
4. வடமேற்கு எல்லை மாகாணத்தில் சட்டமறுப்பு இயக்கத்தை தலைமையேற்று நடத்தியவர் _____. [விடை: கான் அப்துல் கஃபார்கான்]
5. சிறுபான்மையினர் மற்றும் ஒடுக்கப்பட்ட வகுப்பினருக்கு தனித் தொகுதிகளை வழங்கும் _____ ஐ ராம்சே மெக்ஹானாண்டு அறிவித்தார். [விடை: வகுப்புவாரி ஒதுக்கீட்டை]
6. _____ என்பவர் வெள்ளையனே வெளியேறு இயக்கத்தின்போது காங்கிரஸ் வானொலியை திரைமறைவாக செயல்படுத்தினார். [Aug-'22] [விடை: உஷா மேத்தா]

III. சரியான கூற்றைத் தேர்வு செய்யவும்.

1. (i) இந்திய பொதுவுடைமை கட்சி 1920 ஆம் ஆண்டு தாஷ்கண்டில் தொடங்கப்பட்டது.
(ii) M.சிங்காரவேலர் கான்பூர் சதித்திட்ட வழக்கில் விசாரணைக்கு உட்படுத்தப்பட்டார்.
(iii) ஜெயப்பிரகாஷ் நாராயண், ஆச்சார்ய நரேந்திர தேவ், மினு மசானி ஆகியோர் தலைமையில் காங்கிரஸ் சமதர்ம கட்சி உருவானது.
(iv) வெள்ளையனே வெளியேறு போராட்டத்தில் சமதர்மவாதிகள் பங்கேற்கவில்லை.
அ) (i) மற்றும் (ii) சரியானது ஆ) (ii) மற்றும் (iii) சரியானது
இ) (iv) சரியானது ஈ) (i) (ii) மற்றும் (iii) சரியானது
[விடை: ஈ) (i) (ii) மற்றும் (iii) சரியானது]
2. கூற்று : காங்கிரஸ் முதலாவது வட்டமேசை மாநாட்டில் கலந்து கொண்டது.
காரணம் : காங்கிரஸ் இரண்டாவது வட்ட மேசை மாநாட்டில் கலந்துகொள்ள காந்தி-இர்வின் ஒப்பந்தம் வழிவகை செய்தது.
அ) கூற்று மற்றும் காரணம் இரண்டும் சரியானது. ஆனால் காரணம் கூற்றுக்கான சரியான விளக்கம் இல்லை.
ஆ) கூற்று சரியானது ஆனால் காரணம் தவறானது
இ) கூற்று தவறானது ஆனால் காரணம் சரியானது.
ஈ) கூற்று மற்றும் காரணம் இரண்டும் சரியானது மற்றும் காரணம் கூற்றுக்கான சரியான விளக்கம் ஆகும்.
[விடை: இ) கூற்று தவறானது ஆனால் காரணம் சரியானது.]

மவுண்ட்பேட்டன் திட்டம் :

1947 ஆம் ஆண்டு ஜூன் மாதம் 3ஆம் நாள் மவுண்ட்பேட்டன் திட்டம் அறிவிக்கப்பட்டது. கீழ்க்கண்டவை அதில் கூறப்பட்ட அம்சங்கள்:

- இந்தியா மற்றும் பாகிஸ்தானுக்கு, பிரிட்டனின் தன்னாட்சிப் பகுதி (டொமினியன்) என்ற தகுதியுடன் அதிகாரமாற்றம் நடைபெறும்.
- சிற்றரசுகள் இந்தியா அல்லது பாகிஸ்தானில் சேரவேண்டும்.
- ராட்கிளிஃப் பிரவன் தலைமையில் எல்லைகளை நிர்ணயிக்கும் ஆணையம் அமைக்கப்பட்டு அதிகாரமாற்றத்துக்குப் பிறகு இந்த ஆணையத்தின் முடிவு அறிவிக்கப்படும்.
- பஞ்சாப் மற்றும் வங்காள சட்டப்பேரவைகள் அவைகள் பிரிக்கப்பட வேண்டுமா என்பது பற்றி வாக்கெடுப்பு நடத்தும். இதன்படி இந்தியா மற்றும் பாகிஸ்தான் என இரண்டு பகுதிகளாக இந்தியா பிரிக்கப்பட்டது.

VII. செயல்பாடுகள்

- ஒரு வரை படத்தில் காந்திய இயக்கத்துடன் தொடர்புடைய முக்கிய இடங்களைக் குறிப்பிடுமாறும் அங்கு என்ன நடந்தது என்று ஓரிரு வாக்கியங்கள் எழுதுமாறும் மாணவர்களைக் கேட்டுக்கொள்ளலாம். [Sep-'21]



(v) இரபீந்திரநாத் தாகூர் வீரத்திருமகன் (knighthood) என்ற அரசுப்பட்டத்தை திருப்பிக் கொடுத்தார். கெய்சர் -இ-ஹரிந்த் பதக்கத்தை காந்தியடிகள் திருப்பிக்கொடுத்தார்.

(இ) கிலாபத் இயக்கம் :

(i) 1918இல் முதலாவது உலகப்போர் முடிவுக்கு வந்தது. இசுலாமிய மதத்தலைவர் என உலகம் முழுவதும் போற்றப்பட்ட துருக்கியின் கலிபா கடுமையாக நடத்தப்பட்டார்.

(ii) அவருக்கு ஆதரவாக தோற்றுவிக்கப்பட்ட இயக்கமே கிலாபத் இயக்கம் என்றழைக்கப்பட்டது. 1920 ஜூன் 9இல் அலகாபாத்தில் கூடிய கிலாபத் குழுவினர் கூட்டம் காந்தியடிகளின் அகிம்சை மற்றும் ஒத்துழையாமை இயக்கத்தை ஏற்றுக்கொண்டது. ஒத்துழையாமை இயக்கம் 1920 ஆகஸ்டு முதல் நாள் தொடங்கியது.

அரசு தோர்வு வினா-விடை

1 மதிப்பெண்

1. தமிழ்நாட்டில் திருச்சிராப்பள்ளியில் இருந்து வேதாரண்யம் வரை உப்பு சத்தியாகிரக யாத்திரையை மேற்கொண்டவர் யார்? [May-'22]
அ) சி.ஆர்.தாஸ் ஆ) மோதிலால் நேரு
இ) சி. ராஜாஜி ஈ) M.N. ராய்
[விடை: இ) சி. ராஜாஜி]

5 மதிப்பெண்கள்

1. ஒத்துழையாமை இயக்க திட்டத்தின் கூறுகளை எழுதுக. [May-'22]
(i) பட்டங்கள் மற்றும் மரியாதை நிமித்தமான பதவிகள் அனைத்தையும் திரும்ப ஒப்படைப்பது.
(ii) அரசின் செயல்பாடுகளில் ஒத்துழைக்காமலிருப்பது.
(iii) நீதிமன்ற வழக்குகளில் வழக்குரைஞர்கள் ஆஜராகாமல் இருப்பது. நீதிமன்றத்தில் இருந்த வழக்குகளுக்கு தனியார் மத்தியஸ்தம் மூலமாகத் தீர்வு காண்பது.
(iv) அரசுப் பள்ளிகளை குழந்தைகளும் அவற்றின் பெற்றோர்களும் புறக்கணிப்பது.
(v) 1919ஆம் ஆண்டு சட்டத்தின்கீழ் உருவாக்கப்பட்ட சட்டப்பேரவைகளை புறக்கணிப்பது.

கூடுதல் வினாக்கள்

I. சரியான விடையைத் தேர்ந்தெடுத்து எழுதுக. 1 மதிப்பெண்

- காந்தியடிகள் பிறந்த மாநிலம் _____.
அ) குஜராத் ஆ) உத்திரபிரதேசம்
இ) மஹாராஷ்டிரா ஈ) மத்தியப் பிரதேசம்
[விடை: அ) குஜராத்]
- காந்தியடிகள் சட்டம் பயில்வதற்காக 1888இல் _____ கடல் பயணம் மேற்கொண்டார்.
அ) அமெரிக்கா ஆ) இங்கிலாந்து
இ) ஆஸ்திரேலியா ஈ) தென்ஆப்பிரிக்கா
[விடை: ஆ) இங்கிலாந்து]
- காந்தியடிகள் _____ இல் முதன் முறையாக இனவெறியை எதிர்கொண்டார்.
அ) ஆஸ்திரேலியா ஆ) தென்ஆப்பிரிக்கா
இ) நியூசிலாந்து ஈ) ரஷ்யா
[விடை: ஆ) தென்ஆப்பிரிக்கா]
- அகமதாபாத் வேலைநிறுத்தம் நடைபெற்ற வருடம் _____.
அ) 1928 ஆ) 1938
இ) 1918 ஈ) 1925
[விடை: இ) 1918]
- ரெளலட் சட்டம் இயற்றப்பட்ட ஆண்டு _____.
அ) 1914 ஆ) 1918
இ) 1919 ஈ) 1927
[விடை: இ) 1919]
- ஜாலியன் வாலாபாக் படுகொலை நடைபெற்ற இடம் _____.
அ) அமிர்தசரஸ் ஆ) லக்னோ
இ) மும்பை ஈ) ஜெய்பூர்
[விடை: அ) அமிர்தசரஸ்]
- முதல் வட்டமேசை மாநாடு நடைபெற்ற வருடம் _____.
அ) 1931 ஆ) 1932
இ) 1930 ஈ) 1935
[விடை: இ) 1930]
- காந்தி - இர்வின் ஒப்பந்தம் நடைபெற்ற வருடம் _____.
அ) 1931 ஆ) 1932
இ) 1930 ஈ) 1935
[விடை: அ) 1931]
- இரண்டாம் வட்டமேசை மாநாடு நடைபெற்ற இடம் _____.
அ) லண்டன் ஆ) ரஷ்யா
இ) அமெரிக்கா ஈ) பாரீஸ்
[விடை: அ) லண்டன்]

புனியியல்

அலகு
1

இந்தியா - அமைவிடம்,
நிலத்தோற்றம் மற்றும்
வடிகாலமைப்பு



கற்றலின் நோக்கங்கள்

- புனியில், இந்தியாவின் அமைவிட முக்கியத்துவத்தைப் பற்றி புரிந்துகொள்ளல்.
- இந்தியாவின் முக்கிய தனித்துவப் பண்புகளைக் கொண்ட இயற்கையமைப்புப் பிரிவுகளைப் பற்றி அறிந்துக் கொள்ளல்.
- இந்திய பெரும் சமவெளிப் பகுதிகளை ஒப்பிடுதல்.
- இந்தியாவின் வடிகாலமைப்பு பற்றி புரிந்துகொள்ளல்.
- இமயமலையில் உருவாகும் ஆறுகள் மற்றும் தீபகற்ப ஆறுகளுக்கு இடையேயான வேற்றுமைகளைப் புரிந்துகொள்ளல்.

பயிற்சி

I. சரியான விடையைத் தேர்வு செய்க

1. இந்தியாவின் வடக்கு தெற்கு பரவல்.
அ) 2500 கி.மீ ஆ) 2933 கி.மீ
இ) 3214 கி.மீ ஈ) 2814 கி.மீ [விடை: இ) 3214 கி.மீ]
2. பீகாரின் துயரம் என்று அழைக்கப்படும் ஆறு
அ) நர்மதா ஆ) கோதாவரி
இ) கோசி ஈ) தாமோதர் [விடை: இ) கோசி]
3. மூன்று பக்கம் நீரால் சூழப்பட்ட பகுதி _____ என அழைக்கப்படுகிறது. [PTA-3]
அ) கடற்கரை ஆ) தீபகற்பம் இ) தீவு ஈ) நீர்ச்சந்தி [விடை: ஆ) தீபகற்பம்]
4. பாக் நீர்ச்சந்தி மற்றும் மன்னார் வளைகுடா _____ ஐ இந்தியாவிடமிருந்து பிரிக்கிறது.
அ) கோவா ஆ) மேற்கு வங்காளம் [PTA-4; May-'22]
இ) இலங்கை ஈ) மாலத்தீவு [விடை: இ) இலங்கை]
5. தென்னிந்தியாவின் மிக உயரமான சிகரம் _____. [PTA-2; GMQP-'19]
அ) ஊட்டி ஆ) ஆனை முடி
இ) கொடைக்கானல் ஈ) ஜின்டா கடா [விடை: ஆ) ஆனை முடி]
6. பழைய வண்டல் படிவுகளால் உருவான சமவெளி _____. [FRT-'22]
அ) பாபர் ஆ) தராய் இ) பாங்கர் ஈ) காதர் [விடை: இ) பாங்கர்]
7. பழுவேற்காடு ஏரி _____ மாநிலங்களுக்கிடையே அமைந்துள்ளது. [PTA-1; Aug-'22]
அ) மேற்கு வங்காளம் மற்றும் ஒடிசா ஆ) கர்நாடகா மற்றும் கேரளா
இ) ஒடிசா மற்றும் ஆந்திரப் பிரதேசம் ஈ) தமிழ்நாடு மற்றும் ஆந்திரப் பிரதேசம்
[விடை: ஈ) தமிழ்நாடு மற்றும் ஆந்திரப் பிரதேசம்]

II. வாரூத்துக

1.	சாங்போ	-	கங்கை ஆற்றின் துணை ஆறு
2.	யமுனை	-	இந்தியாவின் உயர்ந்த சிகரம்
3.	புதிய வண்டல் படிவுகள்	-	பிரம்மபுத்திரா
4.	காட்வின் ஆஸ்டின் (K2)	-	தென்கிழக்கு கடற்கரைச் சமவெளி
5.	சோழ மண்டலக் கடற்கரை	-	காதர்

விடைகள்
பிரம்மபுத்திரா
கங்கை ஆற்றின் துணை ஆறு
காதர்
இந்தியாவின் உயர்ந்த சிகரம்
தென்கிழக்கு கடற்கரைச் சமவெளி

III. காரணம் கூறுக.

1. இமயமலைகள் மடிப்பு மலைகள் என அழைக்கப்படுகின்றன.

[May-'22]

காரணம் : இமயமலைகள் சில மில்லியன் ஆண்டுகளுக்கு முன்னர்தான் உருவாகியவை. மேலும் புவி மேலோட்டு பேரியக்க விசைகள் காரணமாக புவி மேலோட்டு மடிக்கப்பட்டு மடிப்பு மலைகளாக உருவாகின. எனவே இமயமலைகள் மடிப்பு மலைகள் என அழைக்கப்படுகின்றன.

2. வட இந்திய ஆறுகள் வற்றாத ஆறுகள்.

[PTA-2; HY-'19]

காரணம் : வடக்கே உள்ள இமயமலையில் வட இந்திய ஆறுகள் உற்பத்தியாவதால் வருடம் முழுவதும் இவற்றில் நீர் வரத்து உள்ளது. கோடை காலத்தில் பனி உருகி நீராகவும் குளிர் காலத்தில் மழையினால் நீராகவும் இருப்பதால் வட இந்திய ஆறுகள் வற்றாத ஆறுகள் ஆகும்.

3. தென்னிந்திய நதிகள் கிழக்கு நோக்கிப் பாயும் நதிகள்.

காரணம் : தென்னிந்திய ஆறுகள் மேற்கு தொடர்ச்சி மலையில் உற்பத்தியாகி கிழக்கு நோக்கி சரிகின்றன. அதனால் தென்னிந்திய நதிகள் கிழக்கு நோக்கி பாயும் நதிகளாகும்.

4. மேற்கு நோக்கிப் பாயும் நதிகள் டெல்டாவை உருவாக்குவதில்லை.

காரணம் : மேற்கு தொடர்ச்சி மலைகள் மிகவும் உயரமாக இருப்பதாலும், கடினப் பாறைகள் இருப்பதாலும் மற்றும் மேற்கு நோக்கி பாயும் ஆறுகளின் நீளம் குறைவாக இருப்பதால் இவைகள் டெல்டாவை உருவாக்குவதில்லை.

IV. வேறுபடுத்துக

1. இமயமலை ஆறுகள் மற்றும் தீபகற்ப ஆறுகள்.

[PTA-5]

	இமயமலை ஆறுகள்	தீபகற்ப ஆறுகள்
(i)	சிந்து, கங்கை, பிரம்மபுத்திரா ஆகிய ஆறுகள் இமயமலை ஆறுகள் எனப்படும்.	மகாநதி, கோதாவரி, கிருஷ்ணா, காவேரி, நர்மதை, தபதி ஆகிய ஆறுகள் தீபகற்ப ஆறுகள் எனப்படும்.
(ii)	இவ்வாறுகள் இமயமலையில் உற்பத்தியாகின்றன.	இவ்வாறுகள் மேற்கு தொடர்ச்சி மலையில் உற்பத்தியாகின்றன.
(iii)	இவை வற்றாத நதிகள் ஆகும்.	இவை வற்றும் நதிகள் ஆகும்.
(iv)	இவை நீளமானவை மற்றும் அகலமானவை.	இவை குறுகலான மற்றும் நீளம் குறைந்தவை.

2. மேற்குத் தொடர்ச்சி மலைகள் மற்றும் கிழக்கு தொடர்ச்சி மலைகள். [PTA-1; FRT & Aug-'22]

	மேற்கு தொடர்ச்சி மலைகள்	கிழக்கு தொடர்ச்சி மலைகள்
(i)	மேற்கு தொடர்ச்சி மலை தீபகற்ப பீடபூமியின் மேற்கு விளிம்பு பகுதியில் காணப்படுகிறது.	கிழக்கு தொடர்ச்சி மலை தீபகற்ப பீடபூமியில் கிழக்கு விளிம்பு பகுதியில் காணப்படுகின்றது.
(ii)	இவை மேற்கு கடற்கரைக்கு இணையாகச் செல்கிறது.	இவை கிழக்கு கடற்கரைக்கு இணையாகச் செல்கிறது.
(iii)	இவை தொடர்ச்சியானவை.	இவை தொடர்ச்சி அற்றவை.
(iv)	இதன் உயரமான சிகரம் ஆணைமுடி.	இதன் உயரமான சிகரம் மகேந்திரகிரி.

3. மேற்கு கடற்கரைச் சமவெளி மற்றும் கிழக்கு கடற்கரைச் சமவெளி. [Sep-'21]

	மேற்கு கடற்கரைச் சமவெளி	கிழக்கு கடற்கரைச் சமவெளி
(i)	மேற்கு கடற்கரைச் சமவெளி மேற்கு தொடர்ச்சி மலைக்கும் அரபிக் கடலுக்கும் இடையே அமைந்துள்ளது.	கிழக்கு கடற்கரைச் சமவெளி கிழக்கு தொடர்ச்சி மலைக்கும் வங்காள விரிகுடாவிற்கும் இடையே அமைந்துள்ளது.
(ii)	இச்சமவெளி ரானா ஆப் கட்ச் முதல் கன்னியாகுமரி வரை பரவியுள்ளது.	இச்சமவெளி மேற்கு வங்கம் முதல் கன்னியாகுமரி வரை பரவியுள்ளது.
(iii)	மேற்குக் கடற்கரையின் வடபகுதி கொங்கணக் கடற்கரை எனவும், மத்தியப்பகுதி கனரா கடற்கரை எனவும் அழைக்கப்படுகிறது.	மகாநதிக்கும் கிருஷ்ணா நதிக்கும் இடைப்பட்டப்பகுதி வடசர்க்கார் எனவும், கிருஷ்ணா மற்றும் காவேரி ஆற்றிற்கு இடைப்பட்டப்பகுதி சோழமண்டலக் கடற்கரை எனவும் அழைக்கப்படுகிறது.
(iv)	வேம்பநாடு ஏரி இப்பகுதியில் உள்ள முக்கியமான ஏரியாகும்.	சிலிகா ஏரி, கொல்லேறு ஏரி, பழுவேற்காடு ஏரி ஆகியவை முக்கியமான ஏரிகளாகும்.

V. சுருக்கமாக விடையளி.

1. இந்தியாவின் அண்டை நாடுகளின் பெயர்களைக் கூறுக. [GMQP-'19]

இந்தியாவின் அண்டை நாடுகளின் பெயர்கள் :

மேற்கில் - பாகிஸ்தான், வடமேற்கில் - ஆப்கானிஸ்தான்,

வடக்கில் - சீனா, நேபாளம், பூடான், கிழக்கில் - வங்காள தேசம் மற்றும் மியான்மர்,

தெற்கில் - இலங்கை.

2. இந்திய திட்டநேரத்தின் முக்கியத்துவம் பற்றி கூறுக. [PTA-2; Aug-'22]

(i) இந்தியாவின் கிழக்கிலுள்ள அருணாச்சலப் பிரதேசத்தில் மேற்கிலுள்ள குஜராதத்தைக் காட்டிலும் இரண்டு மணி நேரம் முன்னதாகவே சூரியன் உதயமாகிறது.

(ii) இந்த நேர வேறுபாட்டை தவிர்ப்பதற்காக, இந்தியாவின் மத்திய தீர்க்கரேகையான 82°30' கிழக்குத் தீர்க்கரேகையின் தலநேரம், இந்திய திட்டநேரமாக எடுத்துக்கொள்ளப்படுகிறது.

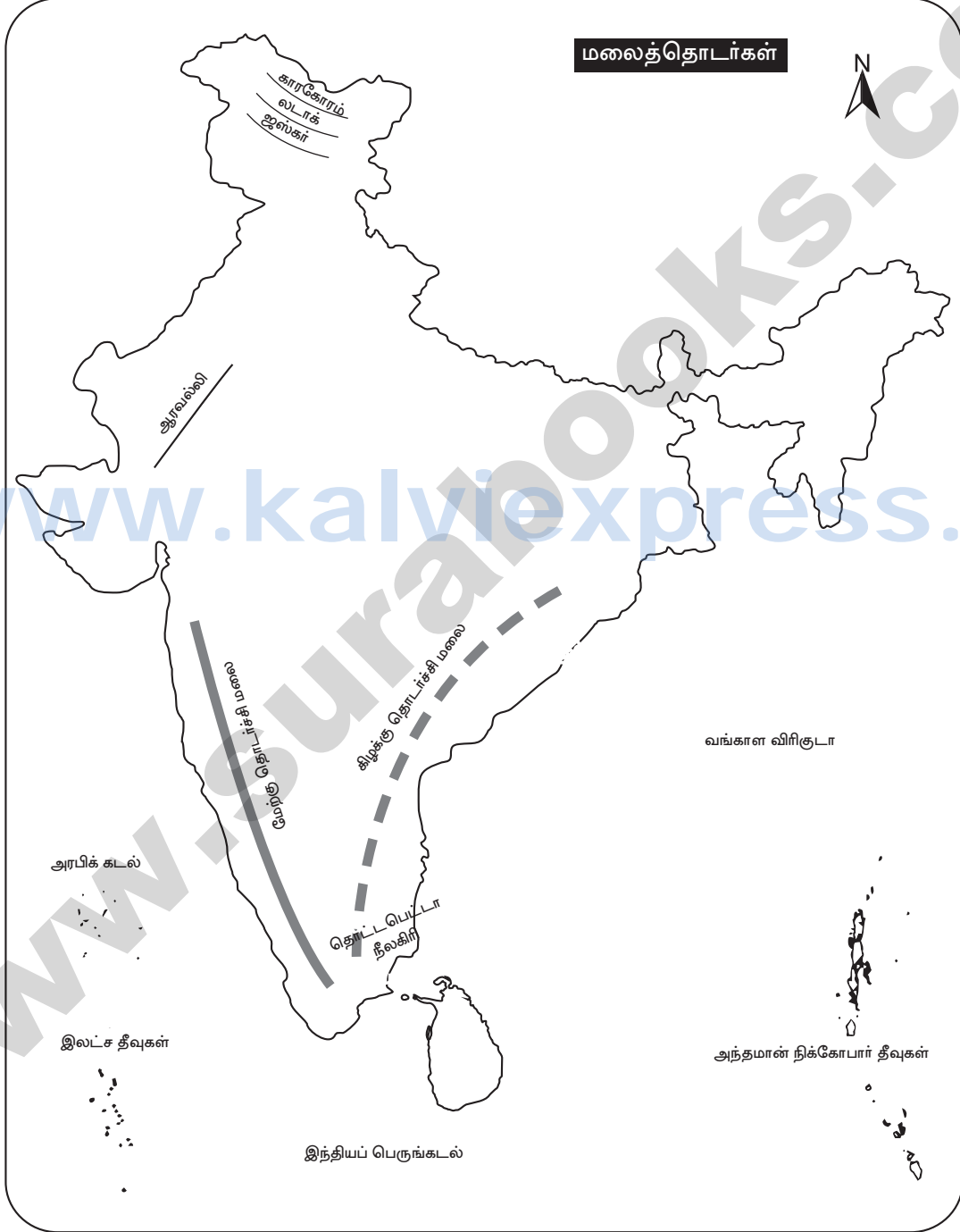
(iii) இத்தீர்க்கரேகை மிர்சாபூர் (அலகாபாத்) வழியாக செல்கிறது.

(iv) இந்திய திட்ட நேரமானது கீர்ன்வீச் திட்ட நேரத்தைவிட 5 மணி 30 நிமிடம் முன்னதாக உள்ளது.

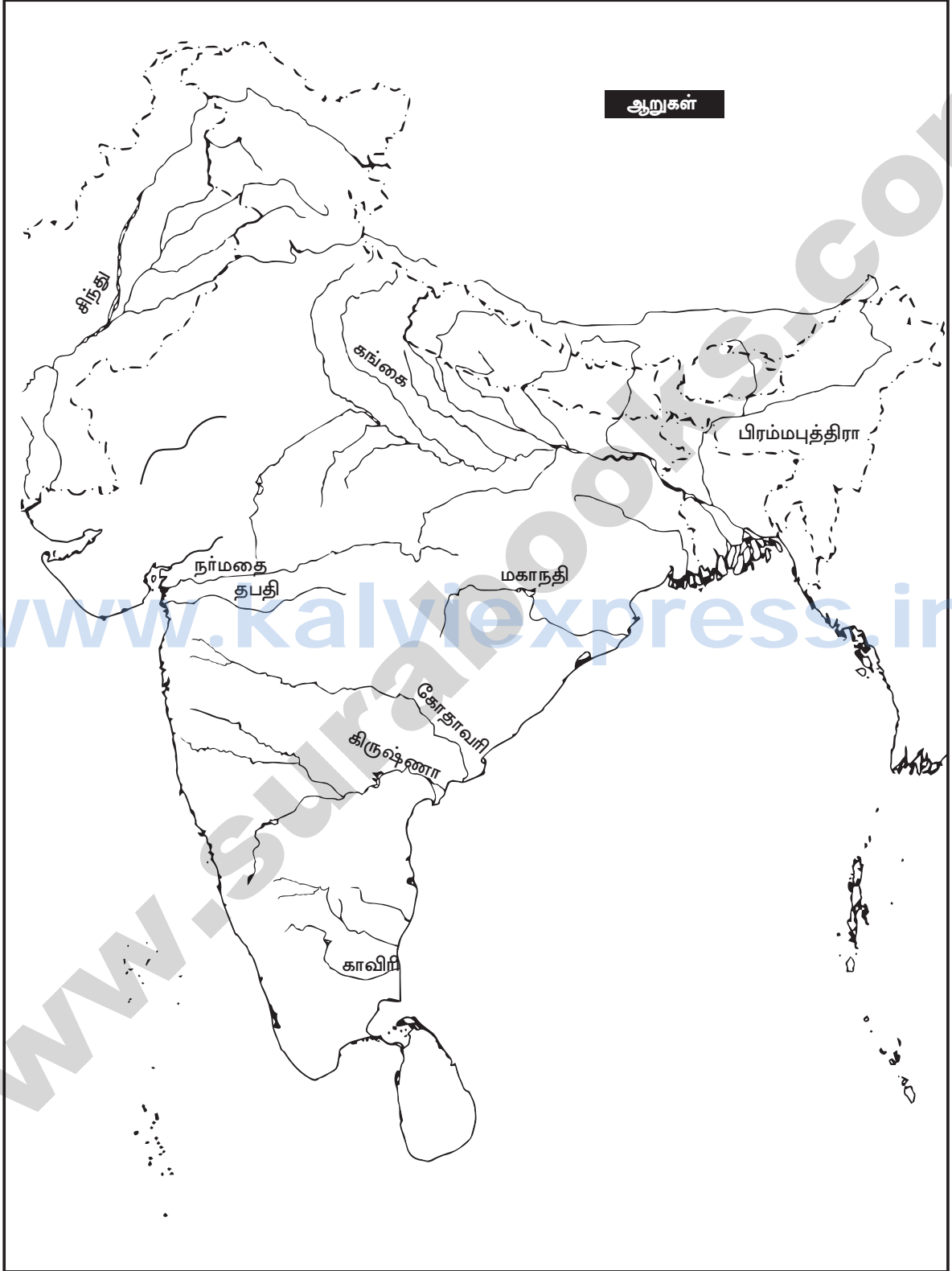
VII. வரைப்படப் பயிற்சி.

கொடுக்கப்பட்டுள்ள இடங்களை இந்திய வரைபடத்தில் குறிக்கவும்.

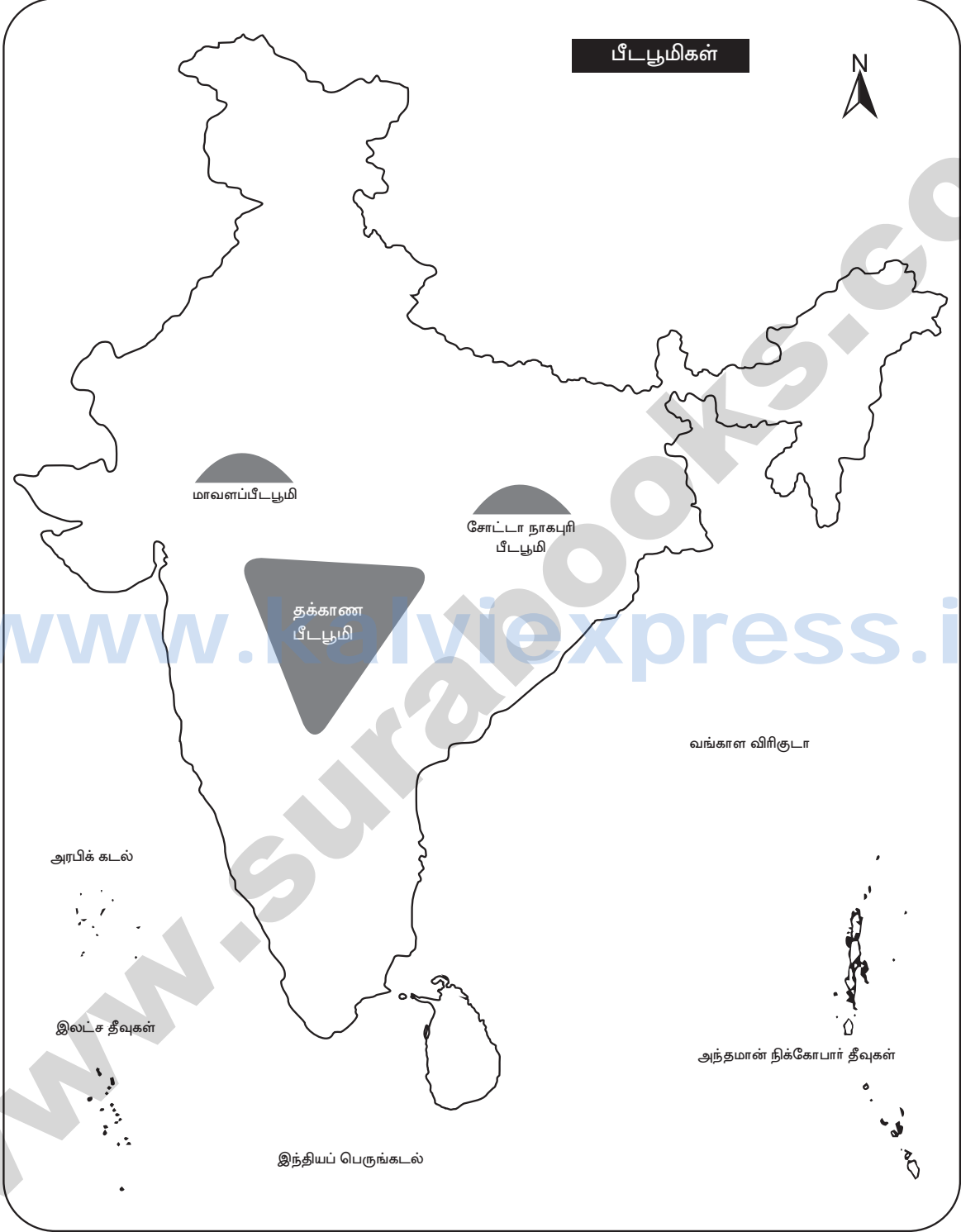
1. மலைத்தொடர்கள் : காரகோரம், லடாக், ஜஸ்கர், ஆரவல்லி, மேற்கு தொடர்ச்சி மலை, கிழக்கு தொடர்ச்சி மலை.



2. ஆறுகள் : சிந்து, கங்கை, பிரம்மபுத்திரா, நர்மதை, தபதி, மகாநதி, கோதாவரி, கிருஷ்ணா மற்றும் காவிரி.



3. பீடபூமிகள் : மாளவபீடபூமி, சோட்டா நாகபுரி பீடபூமி, தக்காண பீடபூமி.



குடிமையியல்

அலகு
1

இந்திய அரசியலமைப்பு



கற்றலின் நோக்கங்கள்

- இந்திய அரசியலமைப்பு உருவாக்கப்பட்டதை அறிதல்.
- இந்திய அரசியலமைப்பின் சிறப்புக் கூறுகளை அறிதல்.
- அடிப்படை உரிமைகள் மற்றும் கடமைகளைப் புரிதல்.
- அரசு நெறிமுறையுறத்தும் கோட்பாடுகளை அறிதல்.
- மத்திய, மாநில அரசுகளின் உறவுகள் மற்றும் அவசரநிலை பற்றிப் புரிதல்.

மதிப்பீடு

I. சரியான விடையைத் தேர்ந்தெடுக்கவும்

1. கீழ்க்காணும் வரிசையில் 'முகவுரை' பற்றிய சரியான தொடர் எது? [Aug-'22]
அ) குடியரசு, ஜனநாயக, சமயச் சார்பற்ற, சமதர்ம, இறையாண்மை.
ஆ) இறையாண்மை, சமதர்ம, சமயச் சார்பற்ற, குடியரசு, ஜனநாயக.
இ) இறையாண்மை, குடியரசு, சமயச் சார்பற்ற, சமதர்ம, ஜனநாயக.
ஈ) இறையாண்மை, சமதர்ம, சமயச் சார்பற்ற, ஜனநாயக, குடியரசு.
[விடை: ஈ) இறையாண்மை, சமதர்ம, சமயச் சார்பற்ற, ஜனநாயக, குடியரசு]
2. இந்திய அரசியலமைப்பின் முகவுரை எத்தனை முறை திருத்தப்பட்டது?
அ) ஒருமுறை ஆ) இருமுறை
இ) மூன்று முறை ஈ) எப்பொழுதும் இல்லை [விடை: அ) ஒருமுறை]
3. ஒரு வெளிநாட்டவர், கீழ்க்காணும் எதன் மூலம் இந்திய குடியுரிமை பெறமுடியும்?
அ) வம்சாவளி ஆ) பதிவு
இ) இயல்புரிமை ஈ) மேற்கண்ட அனைத்தும் [விடை: இ) இயல்புரிமை]
4. மாறுபட்ட ஒன்றைக் கண்டுபிடி. [PTA-2]
அ) சமத்துவ உரிமை ஆ) சுரண்டலுக்கெதிரான உரிமை
இ) சொத்துரிமை ஈ) கல்வி மற்றும் கலாச்சார உரிமை [விடை: இ) சொத்துரிமை]
5. கீழ்க்காண்பவற்றில் ஒன்று, அடிப்படை உரிமையைப் பயன்படுத்துவதற்கு உதாரணம் இல்லை. [PTA-6]
அ) கர்நாடகாவிலிருந்து, கேரளா பண்ணைகளில் வேலையாட்கள் பணி செய்தல்.
ஆ) கிறித்துவ சமயக்குழு, தொடர்ச்சியாக, பள்ளிகளை அமைத்தல்.
இ) ஆண், பெண் இருபாலரும் அரசுப் பணிகளுக்கு சம உணியம் பெறுதல்.
ஈ) பெற்றோர்களின் பூர்வீக சொத்துகள் அவர்களது பிள்ளைகளுக்குச் செல்லுதல்.
[விடை: ஈ) பெற்றோர்களின் பூர்வீக சொத்துகள் அவர்களது பிள்ளைகளுக்குச் செல்லுதல்]

IV. குறுகிய விடை தருக.

1. அரசியலமைப்பு என்றால் என்ன?
(i) ஒரு நாட்டின் நிர்வாகமானது எந்த அடிப்படைக் கொள்கைகளைச் சார்ந்து அமைந்துள்ளது என்பதை பிரதிபலிக்கும் அடிப்படைச் சட்டமே அரசியலமைப்பு என்பதாகும்.
(ii) ஒரு நாட்டின் முன்னேற்றத்திற்கு அரசியலமைப்பு அச்சாணி போன்றது.
2. குடியரிமை என்பதன் பொருள் என்ன? [PTA-5]
(i) 'சிட்டிசன்' (Citizen) எனும் சொல் 'சிவிஸ்' (Civis) எனும் இலத்தீன் வார்த்தையிலிருந்து பெறப்பட்டதாகும். இதன் பொருள் ஒரு 'நகர அரசில் வசிப்பவர்' என்பதாகும்.
(ii) இந்திய அரசியலமைப்பு, இந்தியா முழுவதும் ஒரே மாதிரியான ஒற்றை குடியரிமையை வழங்குகிறது.
3. இந்திய அரசியலமைப்பால் வழங்கப்படும் அடிப்படை உரிமைகளை பட்டியலிக. [PTA-3]
அடிப்படை உரிமைகள் :
(i) சமத்துவ உரிமை
(ii) சுதந்திர உரிமை
(iii) சுரண்டலுக்கெதிரான உரிமை
(iv) சமயச் சார்பு உரிமை
(v) கல்வி, கலாச்சார உரிமை
(vi) அரசியலமைப்புக்குட்பட்டு தீர்வு காணும் உரிமை.
4. நீதிப்பேராணை (Writ) என்றால் என்ன? [FRT-'22]
நீதிமன்ற முத்திரையுடன், நீதிமன்றத்தால் வெளியிடப்படும் கட்டளை அல்லது ஆணை நீதிப்பேராணை எனப்படும். சில சட்டங்களை நிறைவேற்றாமல் தடை செய்ய நீதிமன்றத்தால் வெளியிடப்படும் ஆணையாகும்.
5. இந்தியாவின் செம்மொழிகள் எவை? [QY-'19; Aug-'22]
6 மொழிகள் செம்மொழி தகுதியை பெற்றுள்ளன. அவை தமிழ் (2004), சமஸ்கிருதம் (2005), தெலுங்கு (2008), கன்னடம் (2008), மலையாளம் (2013) மற்றும் ஒடியா (2014).
6. தேசிய அவசரநிலை என்றால் என்ன? [PTA-6]
(i) போர், வெளிநாட்டினர் ஆக்கிரமிப்பு, அல்லது ஆயுதமேந்திய கிளர்ச்சி அல்லது உடனடி ஆபத்து அல்லது அச்சுறுத்தல் காரணமாக இந்தியாவின் பாதுகாப்பிற்கு அச்சுறுத்தல் ஏற்பட்டால் குடியரசுத் தலைவர், அரசியலமைப்புச் சட்டப் பிரிவு 352ன் கீழ் அவசரநிலையை அறிவிக்கலாம்.
(ii) போர் அல்லது வெளிநாட்டினர் ஆக்கிரமிப்பின் காரணமாக அவசரநிலை அறிவிக்கப்படும்பொழுது அது 'வெளிப்புற அவசரநிலை' எனப்படுகிறது.
(iii) ஆயுதமேந்திய கிளர்ச்சிக் காரணமாக அவசரநிலை அறிவிக்கப்படும்பொழுது அது 'உள்நாட்டு அவசரநிலை' எனப்படுகிறது.
7. மத்திய மற்றும் மாநில அரசுகளுக்கு இடையேயான உறவுகளை மூன்று தலைப்புகளில் பட்டியலிடுக.
(i) சட்டமன்ற உறவுகள். (ii) நிர்வாக உறவுகள். (iii) நிதி உறவுகள்.

V. விரிவான விடை தருக.

1. இந்திய அரசியலமைப்பின் சிறப்புக் கூறுகளை விளக்குக. [PTA-1; Sep-'21; FRT & Aug-'22]
இந்திய அரசியலமைப்பு சட்டத்தின் சிறப்புக் கூறுகள் :
(i) உலகிலுள்ள எழுதப்பட்ட, அனைத்து அரசியலமைப்புகளைவிட மிகவும் நீளமானது.
(ii) இதன் பெரும்பாலான கருத்துகள் பல்வேறு நாடுகளின் அரசியலமைப்புகளிலிருந்து பெறப்பட்டவை.
(iii) இது நெகிழாத்தன்மை கொண்டதாகவும், நெகிழும் தன்மை கொண்டதாகவும் உள்ளது.
(iv) கூட்டாட்சி முறை அரசாங்கத்தை (மத்திய, மாநில அரசுகள்) ஏற்படுத்துகிறது.
(v) இந்தியாவைச் சமயச்சார்பற்ற நாடாக்குகிறது.
(vi) சுதந்திரமான நீதித்துறையை வழங்குகிறது.
(vii) உலகளாவிய வயது வந்தோர் வாக்குரிமையை அறிமுகப்படுத்தியதோடு 18-வயது நிரம்பிய குடிமக்கள் அனைவருக்கும் எந்தவித பாகுபாடுமின்றி வாக்குரிமையை வழங்குகிறது.

IV. சுருக்கமாக விடையளிக்கவும்.

2 மதிப்பெண்கள்

1. முகவுரை என்றால் என்ன?

- (i) 'முகவுரை' என்ற சொல் அரசியலமைப்பிற்கு அறிமுகம் அல்லது முன்னுரை என்பதைக் குறிக்கிறது. இது அரசியலமைப்பின் அடிப்படைக் கொள்கைகள், நோக்கங்கள் மற்றும் இலட்சியங்களை உள்ளடக்கியது.
- (ii) இது பெரும் மதிப்புடன் 'அரசியலமைப்பின் திறவுகோல்' என குறிப்பிடப்படுகிறது.

2. இந்திய குடியரிமைச் சட்டம்(1955) பற்றி குறிப்புத் தருக.

- (i) இந்திய அரசியலமைப்புச் சட்டம் நடைமுறைக்கு வந்த பின்பு 1955ல் இயற்றப்பட்ட குடியரிமைச் சட்டம், குடியரிமை பெறுதல் மற்றும் குடியரிமை இழத்தல் ஆகியன பற்றி விளக்குகிறது.
- (ii) இச்சட்டம் அரசியலமைப்பு சட்ட திருத்தத்தால் எட்டு முறை திருத்தப்பட்டுள்ளது.

3. அடிப்படை உரிமை என்றால் என்ன?

- (i) இந்திய அரசியலமைப்புச் சட்டம் பகுதி III பிரிவு 12 லிருந்து பிரிவு 35 - வரையுள்ள பிரிவுகள் அடிப்படை உரிமைகள் பற்றி கூறுகின்றன.
- (ii) இந்த அடிப்படை உரிமைகளை அமெரிக்க ஐக்கிய நாடுகளின் அரசியலமைப்பிலுள்ள அடிப்படை உரிமைகளைச் சார்ந்து உருவாக்கப்பட்டுள்ளது.

4. குறு அரசியலமைப்பு என்றால் என்ன?

அரசியலமைப்பின் 42வது சட்டத்திருத்தம் 'குறு அரசியலமைப்பு' என அறியப்படுகிறது.

5. மத்திய மாநில அரசுகளுக்கு இடையே உள்ள நிர்வாக உறவுகள் பற்றி எழுதுக.

- (i) ஒரு மாநில அரசின் நிர்வாக அதிகாரம் அதன் சொந்த மாநிலத்தில் மட்டுமே உள்ளது மற்றும் அம்மாநிலத்தில் மட்டுமே தனக்கான சட்டமியற்றும் தகுதியையும் பெற்றுள்ளது.
- (ii) அதே வேளையில் மத்திய அரசும், பிரத்தியோக நிர்வாக அதிகாரம் பெற்றுள்ளது.

6. அரசியலமைப்புச் சட்டத்திருத்தம் பற்றி தெளிவாக விவரி.

- (i) 'அமெண்ட் மெண்ட்' (Amendment) எனும் சொல் மாற்றம், மேம்படுத்துதல் மற்றும் சிறு மாறுதல் என்பதைக் குறிக்கிறது.
- (ii) அரசியலமைப்பின் சட்டப்பகுதி XXல் 368வது சட்டப்பிரிவு அரசியலமைப்பினை சட்ட திருத்தம் செய்வதில் பின்பற்றப்படும் முறைகள் மற்றும் திருத்தம் செய்வதில் நாடாளுமன்றத்தின் அதிகாரங்கள் பற்றி தெரிவிக்கிறது.

V. விரிவான விடையளி.

5 மதிப்பெண்கள்

1. இந்தியாவில் குடியரிமை பெறுதல் பற்றி விரிவாக எழுதவும்

குடியரிமை பெறுதல் :

குடியரிமைச் சட்டம் 1955-ன்படி ஒருவர் கீழ்க்காணும் ஏதேனும் ஒரு முறையில் குடியரிமை பெறமுடியும்.

- (i) **பிறப்பின் மூலம் :** 1950 ஆம் ஆண்டு ஜனவரி 26 அன்றோ அல்லது அதற்கு பின்னரோ இந்தியாவில் பிறந்த அனைவரும் இந்திய குடிமக்களாகக் கருதப்படுவர்.
- (ii) **வம்சாவளி மூலம் :** 1950ஆம் ஆண்டு ஜனவரி 26 அன்றோ அல்லது அதற்கு பின்னரோ வெளிநாட்டில் பிறந்த ஒருவரின் தந்தை (அவர் பிறந்தபோது)இந்தியக் குடிமகனாக இருக்கும் பட்சத்தில் வெளிநாட்டில் பிறந்த அவர், வம்சாவளி மூலம் இந்தியக் குடியரிமை பெறமுடியும்.
- (iii) **பதிவின் மூலம் :** ஒருவர் இந்தியக் குடியரிமை கோரி, பொருத்தமான அங்கீகாரத்துடன் பதிவு செய்வதன் மூலம் இந்தியக் குடியரிமை பெறலாம்.
- (iv) **இயல்புரிமை மூலம் :** ஒரு வெளிநாட்டவர், இந்திய அரசிற்கு, இயல்புரிமை கோரி விண்ணப்பிப்பதன் மூலம் அவர் இந்திய குடியரிமை பெறலாம்.
- (v) **பிரதேச (நாடுகள்) இணைவின் மூலம்:** பிற நாடுகள் / பகுதிகள் இந்தியாவுடன் இணையும்போது இந்திய அரசு அவ்வாறு இணையும் நாடுகளின் மக்களை தமது மக்களாகக் கருதி அவர்களுக்குக் குடியரிமை வழங்குகிறது.



பொருளியல்

அலகு
1

மொத்த உள்நாட்டு உற்பத்தி மற்றும்
அதன் வளர்ச்சி : ஓர் அறிமுகம்



கற்றலின் நோக்கங்கள்

- மொத்த உள்நாட்டு உற்பத்தியை பற்றி தெரிந்துகொள்ளுதல்.
- நாட்டு வருமானத்தின் பல்வேறு நடவடிக்கைகளை புரிந்துகொள்ளுதல்.
- மொத்த உள்நாட்டு உற்பத்தியின் அமைப்பை புரிந்துகொள்ளுதல்.
- மொத்த உள்நாட்டு உற்பத்தியில் பல்வேறு துறைகளின் பங்களிப்பை தெரிந்து கொள்ளுதல்.
- பொருளாதார வளர்ச்சி, முன்னேற்றம் மற்றும் அதன் வேறுபாடுகள் பற்றி அறிந்து கொள்ளுதல்.
- மொத்த உள்நாட்டு உற்பத்தி மற்றும் வேலைவாய்ப்பு அடிப்படையில் வளர்ச்சி பாதைப் பற்றி தெரிந்துகொள்ளுதல்.
- மொத்த உள்நாட்டு உற்பத்தி மற்றும் பொருளாதார கொள்கைகளின் வளர்ச்சிப் பற்றி புரிந்துகொள்ளுதல்.

பயிற்சிகள்

I. சரியான விடையைத் தேர்ந்தெடுக்கவும்

1. GNP யின் சமம்

- அ) பணவீக்கத்திற்காக சரிசெய்யப்பட்ட NNP
- ஆ) பணவீக்கத்திற்காக சரிசெய்யப்பட்ட GDP
- இ) GDP மற்றும் வெளிநாட்டில் ஈட்டப்பட்ட நிகர சொத்து வருமானம்
- ஈ) NNP மற்றும் வெளிநாட்டில் ஈட்டப்பட்ட நிகர சொத்து வருமானம்

[விடை: இ) GDP மற்றும் வெளிநாட்டில் ஈட்டப்பட்ட நிகர சொத்து வருமானம்]

2. நாட்டு வருமானம் அளவிடுவது

- அ) பணத்தின் மொத்த மதிப்பு
- ஆ) உற்பத்தியாளர் பண்டத்தின் மொத்த மதிப்பு
- இ) நுகர்வு பண்டத்தின் மொத்த மதிப்பு
- ஈ) பண்டங்கள் மற்றும் பணிகளின் மொத்த மதிப்பு

[விடை: ஈ) பண்டங்கள் மற்றும் பணிகளின் மொத்த மதிப்பு]

3. முதன்மை துறை இதனை உள்ளடக்கியது

[FRT, Aug-'22]

- அ) வேளாண்மை
- ஆ) தானியங்கிகள்
- இ) வர்த்தகம்
- ஈ) வங்கி

[விடை: அ) வேளாண்மை]

2. மொத்த உள்நாட்டு உற்பத்தி என்றால் என்ன? [PTA-6; FRT-'22]

ஒரு ஆண்டில் நாட்டின் புவியியல் எல்லைக்குள் உள்ள உற்பத்தி காரணிகளினால் உற்பத்தி செய்யப்பட்ட வெளியீடு (பண்டங்கள் + பணிகள்)களின் மொத்த மதிப்பே மொத்த உள்நாட்டு உற்பத்தியாகும்.

3. GDPயின் முக்கியத்துவத்தை எழுதுக. [May-'22]

GDPயின் முக்கியத்துவம் :

- பொருளாதார வளர்ச்சி பற்றிய ஆய்வு பற்றி அறிந்து கொள்ளப் பயன்படுகிறது.
- பணவீக்கம் மற்றும் பணவாட்டத்தின் சிக்கல்கள் பற்றி அறிய உதவுகிறது.
- உலகின் வளர்ந்த நாடுகளுடன் ஒப்பீடு செய்வதற்கு பயன்படுகிறது.
- வாங்கும் திறனை மதிப்பீடு செய்வதற்கு உதவுகிறது.
- பொதுத்துறை பற்றி அனைவரும் தெரிந்து கொள்ளப் பயன்படுகிறது.
- பொருளாதார திட்டமிட வழிக்காட்டியாகவும் பயன்படுகிறது.

4. தனிநபர் வருமானம் என்றால் என்ன? [PTA-3; Govt.MQP-2019]

தனிநபர் வருமானம் என்பது மக்களின் வாழ்க்கைத் தரத்தை உணர்த்தும் ஒரு கருவியாகும். நாட்டு வருமானத்தை மக்கள் தொகையில் வகுப்பதன் மூலம் தலா வருமானம் பெறப்படுகிறது.

$$\text{தனிநபர் வருமானம்} = \frac{\text{நாட்டு வருமானம்}}{\text{மக்கள் தொகை}}$$

5. மதிப்பு கூட்டுமுறையை எடுத்துக்காட்டுடன் வரையறு. [FRT-'22]

- மதிப்புக் கூட்டுமுறையில் ஒவ்வொரு இடைநிலைப் பண்டத்தின் மதிப்பை கூட்டினால், இறுதிப் பண்டத்தின் மதிப்பை அளவிடலாம்.
- உற்பத்தியில் பயன்படுத்தப்பட்ட அனைத்து இடைநிலைப் பண்டங்களின் மதிப்பைச் சேர்க்கும் பொழுது, பொருளாதாரத்தில் உற்பத்தி செய்யப்பட்ட இறுதிப் பண்டங்களின் மொத்த மதிப்பு கிடைக்கிறது.
- எ.கா. உதூள் + பால் + சர்க்கரை = தேனீர்
இடைநிலை பண்டங்கள் = இறுதிப்பண்டம்.

6. இந்தியாவின் பொருளாதாரக் கொள்கைகளின் பெயர்களை எழுதுக.

வார்த்தக கொள்கைகள் :

- வேளாண்கொள்கை
- தொழில்துறைக் கொள்கை
- புதிய பொருளாதாரக் கொள்கை

7. சிறுகுறிப்பு வரைக. 1) மொத்த தேசிய மகிழ்ச்சி (GNH) 2) மனித மேம்பாட்டுக் குறியீடு (HDI)

- மொத்த தேசிய மகிழ்ச்சி GNH : ஒரு மக்கள் தொகை கூட்டு மகிழ்ச்சி மற்றும் நல்வாழ்வை அளவிடப் பயன்படும் குறியீட்டை உள்ளடக்கியது.
- மனித மேம்பாட்டுக் குறியீடு HDI : பிறப்பின் போது வாழ்நாள் எதிர்பார்ப்பு, வயது வந்தோரின் கல்வியறிவு மற்றும் வாழ்க்கைத்தரம், GDPயின் மடக்கை செயல்பாடு என கணக்கிடப்பட்டு வாங்கும் சக்தி சமநிலைக்கு (PPP) சரி செய்யப்படுகிறது.

V. கீழ்க்கண்ட வினாக்களுக்கு விரிவான விடையளி.

1. நாட்டு வருமானத்தை கணக்கிடுவதற்கு தொடர்புடைய பல்வேறு கருத்துக்களை விவரி. [PTA-1; Sep-'21]

நாட்டு வருமானத்தை அளவிட தொடர்புடைய பல்வேறு கருத்துக்கள் :

- மொத்த நாட்டு உற்பத்தி (GNP) : மொத்த நாட்டு உற்பத்தி என்பது அந்த நாட்டு மக்களால் ஒரு வருடத்தில் (ஈட்டிய வருமானம்) உற்பத்தி செய்யப்பட்ட வெளியீடுகளின் (பண்டங்கள் + பணிகள்) மதிப்பைக் குறிக்கும். வெளிநாட்டு முதலீடு மூலம் ஈட்டிய இலாபமும் இதில் அடங்கும்.
- மொத்த உள்நாட்டு உற்பத்தி (GDP): ஒரு ஆண்டில் நாட்டின் புவியியல் எல்லைக்குள் உள்ள உற்பத்திக் காரணிகளினால் உற்பத்தி செய்யப்பட்ட வெளியீடுகளின் (பண்டங்கள் + பணிகள்) மொத்த மதிப்பே மொத்த உள்நாட்டு உற்பத்தியாகும்.

(iii) நிகர நாட்டு உற்பத்தி (NNP) :

- மொத்த நாட்டு உற்பத்தியிலிருந்து மூலதன தேய்மானத்தின் மதிப்பை நீக்கிய பின் கிடைக்கும் பண மதிப்பு நிகர நாட்டு உற்பத்தியாகும்.
- நிகர நாட்டு உற்பத்தி NNP = மொத்த நாட்டு உற்பத்தி (GNP) - தேய்மானம்.

(iv) நிகர உள்நாட்டு உற்பத்தி (NDP) :

- நிகர உள்நாட்டு உற்பத்தி என்பது மொத்த உள்நாட்டு உற்பத்தியின் ஒரு பகுதியாகும்.
- மொத்த உள்நாட்டு உற்பத்தியிலிருந்து தேய்மானத்தைக் (தேய்மான செலவின் அளவு) கழித்த பின் கிடைப்பது நிகர உள்நாட்டு உற்பத்தியாகும்.
- நிகர உள்நாட்டு உற்பத்தி (NDP) = மொத்த உள்நாட்டு உற்பத்தி (GDP) - தேய்மானம்.

(v) தலா வருமானம் அல்லது தனிநபர் வருமானம் (PCI) : தலா வருமானம் என்பது மக்களின் வாழ்க்கைத் தரத்தை உணர்த்தும் ஒரு கருவியாகும். நாட்டு வருமானத்தை மக்கள் தொகையில் வகுப்பதன் மூலம் தலா வருமானம் பெறப்படுகிறது.

$$\text{தலா வருமானம்} = \frac{\text{நாட்டு வருமானம்}}{\text{மக்கள் தொகை}}$$

(vi) தனிப்பட்ட வருமானம் (PI) : நேர்முக வரிவிதிப்பிற்கு முன் தனி நபர்கள் மற்றும் ஒரு நாட்டின் குடும்பங்களின் மூலம் அனைத்து ஆதாரங்களிலிருந்து பெறப்படுகின்ற மொத்த பண வருமானத்தை தனிப்பட்ட வருமானம் எனலாம்.

(vii) செலவிடத் தகுதியான வருமானம் (DI): தனிநபர்கள் மற்றும் குடும்பங்களின் உண்மையான வருமானத்தில் நுகர்வுக்கு செலவிடப்படுகின்ற வருமானத்தை செலவிடத் தகுதியான வருமானம் எனப்படுகிறது. இதனை இவ்வாறு அழைக்கலாம்.

DPI = தனிப்பட்ட வருமானம் - நேர்முகவரி (நுகர்வு முறையில் DI = நுகர்வுச் செலவு + சேமிப்பு).

2. GDPஐ கணக்கிடும் முறைகள் யாவை? அவைகளை விவரி. [PTA-4; Govt.MQP-2'9; FRT & Aug-'22]

மொத்த உள்நாட்டு உற்பத்தியின் கணக்கீட்டு முறைகள் :

(i) செலவின முறை :

- இந்த முறையில் மொத்த உள்நாட்டு உற்பத்தியை ஒரு குறிப்பிட்ட காலத்தில் ஒரு நாட்டில் உற்பத்தி செய்த அனைத்து இறுதிப் பண்ட பணிகளுக்கு மேற்கொள்ளும் செலவுகளின் கூட்டுத்தொகையேயாகும்.

$$Y = C + I + G + (X - M)$$

(ii) வருமான முறை :

[PTA-2]

- பண்டங்கள் மற்றும் பணிகளை உற்பத்தி செய்வதில் ஈடுபட்டுள்ள ஆண்கள் மற்றும் பெண்களின் வருமானத்தை கணக்கிட்டு மொத்த உள்நாட்டு உற்பத்தியை இந்த முறை கூறுகிறது. வருமான முறையில் GDP ஐ கணக்கிடும் போது
- வருமானம் = கூலி + வாரம் + வட்டி + லாபம்

(iii) மதிப்பு கூட்டு முறை :

- மதிப்பு கூட்டு முறையில் ஒவ்வொரு இடைநிலை பண்டத்தின் மதிப்பை கூட்டினால் இறுதிப் பண்டத்தின் மதிப்பை அளவிடலாம்.
- உற்பத்தியில் பயன்படுத்தப்பட்ட அனைத்து இடைநிலை பண்டங்களின் மதிப்பை சேர்க்கும் பொழுது, பொருளாதாரத்தில் உற்பத்தி செய்யப்பட்ட இறுதிப் பண்டங்களின் மொத்த மதிப்பு கிடைக்கிறது.
- எ.கா. இறுதிப்பண்டம் என்பது ஹோட்டலில் ஒரு கோப்பை தேனீர் (Tea) உங்களுக்கு வழங்கப்படுவதாகும். அதை தயாரிக்க பயன்படுத்தப்படும் டீத்ரூள், பால் மற்றும் சர்க்கரை இடைநிலை பண்டங்கள் ஆகும்.
- ஒவ்வொரு இடைநிலைப் பண்டமான டீத்ரூள், பால் மற்றும் சர்க்கரை ஆகியவற்றின் இறுதி வெளியீடு தேனீர் கோப்பையின் மதிப்பைச் சேர்க்கின்றது.

$$\text{டீத்ரூள்} + \text{பால்} + \text{சர்க்கரை} = \text{தேனீர்}$$

$$\text{இடைநிலை பண்டங்கள்} = \text{இறுதிப் பண்டம்}$$

அரசு தேர்வு வினா-விடை

1 மதிப்பெண்

1. தலா வருமானம் என்பது [QY-'19]
அ) நாட்டு வருமானம் / மக்கள் தொகை
ஆ) மொத்த உள்நாட்டு உற்பத்தி / மக்கள் தொகை
இ) நிகர நாட்டு உற்பத்தி / மக்கள் தொகை
ஈ) நிகர உள்நாட்டு உற்பத்தி / மக்கள் தொகை
[விடை: அ) நாட்டு வருமானம் / மக்கள் தொகை]
2. மொத்த உள்நாட்டு உற்பத்தி தொடர்பான தவறான கூற்றைக் கண்டறியவும். [Sep-2021]
அ) பொருளாதார வளர்ச்சி பற்றி அறிந்து கொள்ளப் பயன்படுகிறது.
ஆ) பணவீக்கம் மற்றும் பணவாட்டத்தின் சிக்கல்கள் பற்றி அறிய உதவுகிறது.
இ) பொருட்களின் தரத்தை அளவிடப் பயன்படுகிறது.
ஈ) வாங்கும் திறனை மதிப்பீடு செய்ய உதவுகிறது.
[விடை: இ) பொருட்களின் தரத்தை அளவிடப் பயன்படுகிறது]

2 மதிப்பெண்கள்

1. GDP - யில் பங்களிப்புள்ள துறைகளை எடுத்துக்காட்டுடன் எழுதுக. [Sep-2020]
(i) வேளாண்மைத் துறை
(ii) விவசாயம், காடுகள் மற்றும் மீன் பிடித்தல்
(iii) தொழில்துறை
(iv) சுரங்கம் மற்றும் குவாரி
(v) உற்பத்தி
(vi) மின்சாரம், எரிவாயு, நீர் வழங்கல் பிற பயன்பாட்டு சேவைகள்
(vii) கட்டுமானம் (viii) பணித்துறை

கூடுதல் வினாக்கள்

I. சரியான விடையைத் தேர்ந்தெடுத்து எழுதுக. 1 மதிப்பெண்

1. _____ என்பது அந்நாட்டு மக்களால் ஒரு வருடத்தில் உற்பத்தி செய்யப்பட்ட வெளியீடுகளின் மதிப்பைக் குறிக்கும்.
அ) மொத்த நாட்டு உற்பத்தி (GNP)
ஆ) மொத்த உள்நாட்டு உற்பத்தி (GDP)
இ) நிகர நாட்டு உற்பத்தி (NNP)
ஈ) தலா வருமானம் (PCI)
[விடை: அ) மொத்த நாட்டு உற்பத்தி (GNP)]

2. இந்தியாவில் _____ துறை மிகப்பெரிய துறையாகும்.
அ) விவசாயம் ஆ) தொழில்
இ) பணிகள் ஈ) எதுவுமில்லை
[விடை: இ) பணிகள்]
3. _____ மொத்த உள்நாட்டு உற்பத்தியில் உலகில் வேறு இடத்தில் உள்ளது.
அ) அமெரிக்கா ஆ) ஜப்பான்
இ) இந்தியா ஈ) பாகிஸ்தான்
[விடை: இ) இந்தியா]
4. ஒரு குறிப்பிட்ட காலத்தில் ஒரு நாட்டில் உற்பத்தி செய்யப்படுகின்ற அனைத்து பண்டங்கள் மற்றும் பணிகளின் அங்காடி மதிப்பை _____ என்கிறோம்.
அ) GDP ஆ) GNP
இ) NNP ஈ) NDP
[விடை: அ) GDP]

II. கோடிட்ட இடங்களை நிரப்புக.

1. ஓர் ஆண்டில் ஒரு நாட்டில் உற்பத்தி செய்யப்படுகின்ற பண்டங்கள் மற்றும் பணிகளின் மொத்த மதிப்பே _____ ஆகும்.
[விடை : மொத்த உள்நாட்டு உற்பத்தி]
2. இந்திய பொருளாதாரத்தை _____ துறைகளாக வகைப்படுத்தலாம். [விடை : மூன்று]
3. நாட்டின் பொருளாதார நிலையை குறிக்கும் புள்ளி விவர தரவுகளை _____ என்கிறோம்.
[விடை : பொருளாதார குறியீடு]
4. _____ மற்றும் _____ என்பது நுகர்வுக்காக அல்லது பயன்பாட்டுக்காக உள்ள பண்டங்கள் மற்றும் பணிகள் ஆகும். [விடை : இறுதி நிலை பண்டங்கள் மற்றும் பணிகள்]
5. மொத்த உள்நாட்டு உற்பத்தியில் _____ மட்டும் சேர்க்கப்படுகிறது.
[விடை : இறுதிநிலை பண்டங்கள்]
6. இடைநிலை பண்டத்தின் மதிப்பை மொத்த உள்நாட்டு உற்பத்தியில் சேர்த்தால் அதன் விளைவை _____ என அழைக்கப்படுகிறது.
[விடை : இருமுறை கணக்கிடுதல்]
7. நிகர நாட்டு உற்பத்தி (NNP) என்பது _____
[விடை : மொத்த நாட்டு உற்பத்தி (GNP)-தேய்மானம்]
8. _____ என்பது மக்களின் வாழ்க்கைத் தரத்தை உணர்த்தும் ஒரு கருவியாகும்.
[விடை : தலா வருமானம்]
9. தாதாபாய் நௌரோஜி தனது _____ என்ற புத்தகத்தில் தனிநபர் வருமானம் பற்றி முதன்முதலாக கூறியுள்ளார்.
[விடை : வறுமையுடன் பிரிட்டனுக்கொவ்வாத இந்திய ஆட்சியும்]

4. மொத்த மதிப்பு கூடுதல் (GVA) என்றால் என்ன?

ஒரு பொருளாதாரத்தில் ஒரு பகுதி தொழில் அல்லது சேவைத் துறையில் உற்பத்தி செய்யப்பட்ட பண்டங்கள் மற்றும் பணிகளின் மதிப்பே மொத்த மதிப்பு கூடுதல் (GVA) ஆகும்.

5. பொருளாதார குறியீடு என்றால் என்ன?

நாட்டின் பொருளாதார நிலையை குறிக்கும் புள்ளி விவர தரவுகளை பொருளாதார குறியீடு என்கிறோம்.

VI. விரிவான விடையளி.

5 மதிப்பெண்கள்

1. மொத்த உள்நாட்டு உற்பத்தியின் உள்ள குறைபாடுகளை விளக்குக.

GDP யில் பல முக்கிய பண்டங்கள் மற்றும் பணிகள் சேர்க்கப்படவில்லை :

- சந்தையில் விற்கப்படும் பண்டங்கள் மற்றும் பணிகளின் மதிப்பு மட்டுமே மொத்த உள்நாட்டு உற்பத்தியில் அடங்கும்.
- பெற்றோர்கள் அவர்களுடைய குழந்தைகளுக்கு செய்யும் பணிகள்/சேவைகள் மிக முக்கியமானது
- ஆனால் அதை மொத்த உள்நாட்டு உற்பத்தியில் சேர்க்கப்படுவதில்லை. ஏனெனில் அது சந்தையில் விற்பனை செய்யப்படவில்லை.
- இது போலவே சுத்தமான காற்று, ஆரோக்கியமான வாழ்க்கைக்கு முக்கியமானது. இதற்கு சந்தை மதிப்பு இல்லை.
- ஆகவே இவை மொத்த உள்நாட்டு உற்பத்தியின் வரம்புக்கு வருவதில்லை.

GDP அளவை மட்டும் அளவிடுகிறது; தரத்தை அல்ல :

- 1970களில் பள்ளிகள் மற்றும் வங்கிகளில் பந்துமுனை பேனாக்கள் பயன்படுத்த அனுமதிக்கவில்லை.
- ஏனென்றால் இந்தியாவில் கிடைக்கக்கூடிய மிக தரமற்ற பொருளாக இருந்தது.
- அதன் பின்னர், இந்தியாவில் தயாரிக்கப்பட்ட பந்துமுனை பேனாக்களின் தரம் மேம்படுத்தப்பட்டதால் அவற்றின் உற்பத்தியும் குறிப்பிடத்தக்க அளவு அதிகரித்தது.
- எனவே பண்டத்தினுடைய தரம் என்பது மிக முக்கியமானதாகும். ஆனால் அது மொத்த உள்நாட்டு உற்பத்தியில் பின்பற்றப்படுவதில்லை.

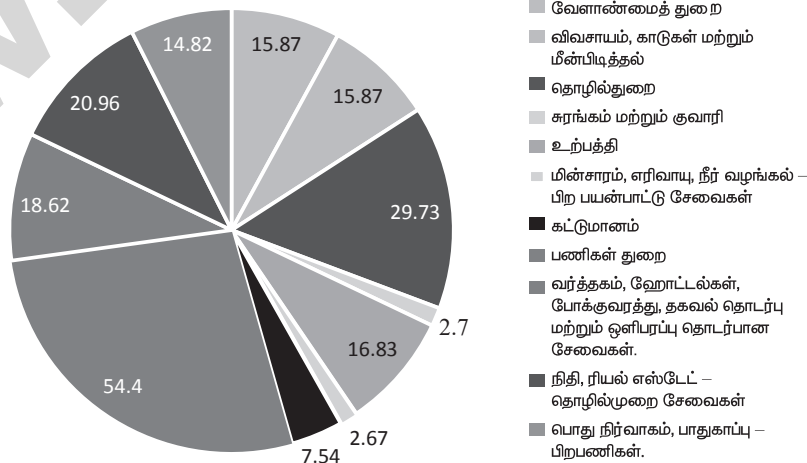
GDP யில் நாட்டு வருமான பகிர்ந்தளிப்பு பற்றி கூறவில்லை :

- ஒரு நாட்டில் மொத்த உள்நாட்டு உற்பத்தி விரைவாக வளரலாம். ஆனால் வருமானம் சமனற்ற நிலையில் பகிர்ந்தளிக்கப்படுகிறது.
- இதனால் ஒரு சிறிய சதவீத மக்களே பயன் அடைகிறார்கள்.

GDP மக்கள் வாழும் வாழ்க்கை முறையைப் பற்றி கூறவில்லை : GDP, மிகவும் குறைந்த சுகாதார நிலை மக்கள் ஜனநாயகமற்ற அரசியல் அமைப்பு, தற்கொலை விகிதம் ஆகியவற்றை கருத்தில் கொள்ளாமல் மொத்த உள்நாட்டு உற்பத்தியில் உயர்மட்ட தனிநபர் வருமானத்துடன் கைகொடுத்து செல்கிறது.

2. GDP யின் துறை வாரியான பங்களிப்பு (2018-19) பற்றி வரைபடத்தில் விவரி.

GDP யின் துறை வாரியான பங்களிப்பு
(2018 - 19) (% பங்கு)



Source: Statisticstimes.com.



அககுத் தேர்வு

நேரம் : 60 நிமிடங்கள்

மதிப்பெண்கள்: 25

- I. சரியான விடையைத் தேர்ந்தெடுத்து எழுதுக.** (4 × 1 = 4)
- முதன்மைத்துறை இதனை உள்ளடக்கியது
அ) வேளாண்மை ஆ) தானியங்கள் இ) வர்த்தகம் ஈ) வங்கி
 - GDP யில் எந்த துறை மூலம் அதிகமாக வேலை வாய்ப்பு ஏற்படுகிறது?
அ) வேளாண்மைத்துறை ஆ) தொழில்துறை இ) பணிகள் துறை ஈ) மேற்கண்ட எதுவுமில்லை
 - _____ முறையில் ஒவ்வொரு இடைநிலை பண்டத்தின் மதிப்பை கூட்டும்போது, இறுதி பண்டத்தின் மதிப்பை கணக்கிடலாம்.
அ) செலவு முறை ஆ) மதிப்பு கூட்டு முறை இ) வருமான முறை ஈ) நாட்டு வருமானம்
 - இந்திய பொருளாதாரம் என்பது
அ) வளர்ந்து வரும் பொருளாதாரம் ஆ) தோன்றும் பொருளாதாரம்
இ) இணை பொருளாதாரம் ஈ) அனைத்தும் சரி
- II. கோடிட்ட இடங்களை நிரப்புக.** (4 × 1 = 4)
- இந்தியா உலகத்தில் _____ மிகப்பெரிய பொருளாதாரம் ஆகும்.
 - GDP _____ பொருளாதாரத்தின் ஒரு குறியீடாகும்.
 - இந்தியாவில் மிகப்பெரிய துறை _____ துறையாகும்.
 - இரண்டாம் துறையை வேறுவிதமான _____ துறை என அழைக்கலாம்.
- III. சரியான கூற்றைக் கண்டுபிடிக்கவும்.** (2 × 1 = 2)
- பின்வரும் காரணங்களினால் இந்தியாவின் சேமிப்பு விகிதம் குறைவாக உள்ளது.
i) குறைந்த தனிநபர் வருமானம்.
ii) மோசமான செயல்திறன் மற்றும் பொதுத்துறையின் குறைவான பங்களிப்பு
iii) வீடுகள் துறையின் மோசமான பங்களிப்பு
iv) கிராமப்புறத்துறையின் சேமிப்பு திறனை முழுமையாக பயன்படுத்தாதது.
அ) (i), (ii) மற்றும் (iv) சரியானவை ஆ) (i), (ii) மற்றும் (iii) சரியானவை
இ) (i), (ii), (iii) மற்றும் (iv) சரியானவை ஈ) (i), (iii) மற்றும் (iv) சரியானவை
 - மொத்த உள்நாட்டு உற்பத்தியின் முக்கியத்துவம்
i) பொருளாதார வளர்ச்சி பற்றி அறிய பயன்படுகிறது.
ii) செல்வம் சமனற்ற முறையில் விநியோகம் செய்யப்படுவது பற்றி அறிய உதவுகிறது
iii) வாங்கும் திறன் மதிப்பீடு செய்ய உதவுகிறது.
iv) உலகின் வளர்ந்த நாடுகளுடன் ஒப்பீடு செய்வதற்கு பயன்படுகிறது.
அ) (i) சரி ஆ) (i) மற்றும் (ii) சரி இ) (ii) மற்றும் (iv) சரி ஈ) (i), (ii), (iii) மற்றும் (iv) சரி
- IV. பொருத்துக.** (4 × 1 = 4)
- C+I+G+(X-M) - அ) நாட்டு வருமானம் / மக்கள் தொகை
 - GST - ஆ) வேளாண்மை
 - தனிநபர் வருமானம் - இ) பண்ட மற்றும் பணிகள் மீதானவரி
 - விலைக் கொள்கை - ஈ) மொத்த நாட்டு உற்பத்தி
- V. குறுகிய விடையளிக்கவும்.** (2 × 3 = 6)
- மொத்த உள்நாட்டு உற்பத்தி என்றால் என்ன?
 - நாட்டு வருமானம் - வரையறு.
 - தனி நபர் வருமானம் என்றால் என்ன?
- V. விரிவான விடையளிக்கவும்.** (1 × 5 = 5)
- GPD ஐ கணக்கிடும் முறைகள் யாவை? அவைகளை விவரி.

விடைகள்

- அ) வேளாண்மை 2. இ) பணிகள் துறை 3. ஆ) மதிப்பு கூட்டு முறை 4. ஈ) அனைத்தும் சரி
- ஆறாவது 6. ஒரு நாட்டின் 7. பணிகள் 8. தொழில்கள்
- ஈ) (i), (iii) மற்றும் (iv) சரியானவை 10. ஈ) (i), (ii), (iii) மற்றும் (iv) சரி
- ஈ) மொத்த நாட்டு உற்பத்தி 12. இ) பண்ட மற்றும் பணிகள் மீதானவரி
- அ) நாட்டு வருமானம் / மக்கள் தொகை 14. ஆ) வேளாண்மை
15. பார்க்க சுராவின் கையேடு IV - 2 16. பார்க்க சுராவின் கையேடு IV - 1
17. பார்க்க சுராவின் கையேடு IV - 4
18. பார்க்க சுராவின் கையேடு V - 2.



அலகு 4

அரசாங்கமும் வரிகளும்



கற்றலின் நோக்கங்கள்

- வளர்ச்சிக் கொள்கைகள் மற்றும் அரசாங்கத்தின் பங்கு பற்றி புரிந்துகொள்ளுதல்.
- வரி மற்றும் அதன் வகைகளைப் பற்றிய அறிவைப் பெறுதல்.
- வரி எவ்வாறு விதிக்கப்படுகிறது என்பதைப் பற்றி படித்தல்.
- கருப்பு பணத்திற்கும், வரி ஏய்ப்பிற்கும் உள்ள நோக்கத்திற்கான அறிவைப் பெறுதல்.
- வாரிக்கும், மற்ற கட்டணத்திற்கும் உள்ள வேறுபாட்டை தெரிந்து கொள்ளுதல்.
- வரிகளும் மற்றும் அவற்றின் முன்னேற்றம் பற்றியும் புரிந்து கொள்ளுதல்.

பயிற்சி

I. சரியான விடையை தேர்ந்தெடுத்து எழுதுக.

1. இந்தியாவிலுள்ள மூன்று நிலைகளான அரசுகள்
அ) மைய, மாநில மற்றும் உள்ளாட்சி ஆ) மைய, மாநில மற்றும் கிராம
இ) மைய, நகராட்சி மற்றும் பஞ்சாயத்து ஈ) ஏதுமில்லை
[விடை: அ) மைய, மாநில மற்றும் உள்ளாட்சி]
2. இந்தியாவில் உள்ள வரிகள்
அ) நேர்முக வரிகள் ஆ) மறைமுக வரிகள்
இ) இரண்டும் (அ) மற்றும் (ஆ) ஈ) ஏதுமில்லை
[விடை: இ) இரண்டும் (அ) மற்றும் (ஆ)]
3. வளர்ச்சிக் கொள்கையில் அரசாங்கத்தின் பங்கு எது?
அ) பாதுகாப்பு ஆ) வெளிநாட்டுக் கொள்கை
இ) பொருளாதாரத்தை கட்டுப்படுத்தல் ஈ) மேற்கூறிய அனைத்தும்
[விடை: ஈ) மேற்கூறிய அனைத்தும்]
4. இந்தியாவில் தனி நபர்களின் மேல் விதிக்கப்படுகின்ற பொதுவான மற்றும் மிக முக்கியமான வரி
அ) சேவை வரி ஆ) கலால் வரி
இ) விற்பனை வரி ஈ) மத்திய விற்பனை வரி
[விடை: ★ வருமான வரி]
5. ஒரு நாடு, ஒரே மாதிரியான வரி என்பதை எந்த வரி உறுதிப்படுத்துகிறது?
அ) மதிப்புக் கூட்டு வரி (VAT) ஆ) வருமான வரி
இ) பண்டங்கள் மற்றும் பணிகள் வரி ஈ) விற்பனை வரி
[விடை: இ) பண்டங்கள் மற்றும் பணிகள் வரி]

4. தேய்வுவீத வரி விதிப்பு முறை பற்றி எழுதுக.

- அதிக வருமானம் ஈட்டுபவர்களைவிட, குறைந்த வருமானம் ஈட்டுபவர்களிடம் அதிகவரி விகிதம் விதிப்பதைக் குறிக்கும்.
- இது வளர்வீத வரிவிதிப்பு முறைக்கு நேர் எதிர்மாறானதாகும்.

VII. விரிவாக விடையளிக்கவும்.

5 மதிப்பெண்கள்

1. வரிவிதிப்புக் கொள்கைகளை விவரி.

வரிவிதிப்புக் கொள்கைகள் :

1. சமத்துவ விதி :

- வரி ஒரு கட்டாயக் கட்டணம் என்பதால், வரி முறையை வடிவமைப்பதில் சமத்துவம் என்பது முதன்மை என்பதை அனைத்து பொருளாதார வல்லுநர்களும் ஒப்புக்கொள்கிறார்கள்.
- பணக்காரர்கள் ஏழைகளைவிட அரசாங்கத்திற்கு அதிக வரி வருவாயை செலுத்த வேண்டும், ஏனென்றால் ஏழைகளை விட பணக்காரர்களுக்கு அதிக வரி செலுத்தும் திறன் உள்ளது.

2. உறுதி விதி :

ஒவ்வொரு வரி செலுத்துவோரும் ஒரு வருடத்தில் எவ்வளவு வரித்தொகையை அரசாங்கத்திற்கு செலுத்த வேண்டும் என்பதைக் கணக்கிட ஒவ்வொரு அரசாங்கமும் வரி முறையை முன் கூட்டியே அறிவிக்க வேண்டும்.

3. சிக்கன மற்றும் வசதி விதி :

- வரி எளிமையானதாக இருந்தால், வரி வசூலிப்பதற்கான செலவு (வரி செலுத்துவோர் செலவு + வரி வசூலிப்போர் செலவு) மிகக் குறைவாக இருக்கும்.
- மேலும், ஒரு நபருக்கு வரி செலுத்தப் போதுமான பணம் கிடைக்கும் நேரத்தில் வரி வசூலிக்கப்பட வேண்டும். இது வசதிக்கான வரி என்று அழைக்கப்படுகிறது.
- ஒரு வசதியான வரி, வரி வசூலிக்கும் செலவை குறைக்கிறது.

உற்பத்தித் திறன் மற்றும் நெகிழ்ச்சி வரி :

அரசாங்கம் போதுமான வரி வருவாயைப் பெறக்கூடிய வரிகளை தேர்வு செய்ய வேண்டும். நிறைய வரிகளுக்குப் பதிலாக அதிக வரி வருவாயைப் பெறக் கூடிய சில வரிகளைத் தேர்வு செய்ய வேண்டும்.

2. வரிக்கும் கட்டணத்திற்கும் உள்ள வேறுபாடுகளைக் கூறுக.

வ.எண்	வரி (Tax)	கட்டணம் (Payments)
1.	வரி என்பது எந்தவித பிரதிபலனும் எதிர்பார்க்காமல் அரசாங்கத்திற்கு கட்டாயமாக செலுத்துகின்ற செலுத்துகையாகும்.	கட்டணம் என்பது பணிகளை பயன்படுத்துவதற்காக செலுத்துவதாகும்.
2.	பொதுவாக அரசாங்கத்தின் வருமான இனங்களில் ஒன்றாக வரி மேலோங்கியுள்ளது.	கட்டணம் என்பது ஒரு குறிப்பிட்ட நன்மைகளுக்கான தனிச் சலுகைகளைப் பெற்றிருந்தாலும், பொதுநல ஒழுங்கு முறையின் சிறப்பான முதன்மை நோக்கமாகும்.
3.	வரி என்பது கட்டாய செலுத்துகை ஆகும்.	கட்டணம் என்பது தன்னார்வக் கட்டணமாகும்.
4.	ஒரு தனிப்பட்ட நபரின் மீது வரி விதிக்கப்பட்டால், அதனை அவர் செலுத்த வேண்டும் - இல்லையெனில் அவர் தண்டிக்கப்படுவார்.	மாறாக, பணிகளை பெற விருப்பமில்லை எனில் கட்டணம் செலுத்தத் தேவையில்லை.
5.	வரி செலுத்துபவர்கள் நேரடியாக எவ்வித சலுகைகளையும் எதிர்பார்க்க முடியாது. உதாரணம் : வருமான வரி, அன்பளிப்பு வரி, சொத்து வரி மற்றும் மதிப்புக் கூட்டு வரி (VAT).	கட்டணம் செலுத்துவதன் மூலம் நுகர்வோர்கள், நேரடியாக சலுகைகளைப் பெறுகின்றனர். உதாரணம் : முத்திரை வரி, ஓட்டுநர் உரிமக் கட்டணம் அரசாங்க பதிவுக் கட்டணம்.



அலகு 4 தேர்வு

நேரம் : 60 நிமிடங்கள்

மதிப்பெண்கள்: 25

I. சரியான விடையைத் தேர்ந்தெடுத்து எழுதுக.

(4 × 1 = 4)

- இந்தியாவில் உள்ள வரிகள்
அ) நேர்முக வரிகள் ஆ) மறைமுக வரிகள்
இ) இரண்டும் (அ) மற்றும் (ஆ) ஈ) ஏதமில்லை
- _____ வரி கலால் வரி என்று அழைக்கப் படுகிறது.
அ) நேர்முக வரி ஆ) மறைமுக வரி இ) விற்பனை வரி ஈ) சுங்கத் தீர்வை
- சொத்து உரிமையிலிருந்து பெறப்பட்ட நன்மைகளுக்கு _____ வரி விதிக்கப்படுகிறது.
அ) வருமான வரி ஆ) சொத்து வரி இ) நிறுவன வரி ஈ) கலால் வரி
- _____ முதல் பல பொருளாதார வல்லுநர்கள் வரி விதிப்புக் கொள்கைகளைக் கொடுத்துள்ளனர்.
அ) ஆடம் ஸ்மித் ஆ) கீன்ஸ் இ) மார்ஷல் ஈ) எதுவுமில்லை

II. கோடிட்ட இடங்களை நிரப்புக.

(4 × 1 = 4)

- இந்தியா ஒரு _____ நாடு ஆகும்.
- “வரி” என்ற வார்த்தை _____ சொல்லிலிருந்து பெறப்பட்டது.
- பண்டங்கள் மற்றும் பணிகள் வரி _____ ஆண்டு முதல் நடைமுறைக்கு வந்தது.
- _____ என்பது, கருப்பு சந்தையில் ஈட்டப்பட்ட வருமானம் மற்றும் செலுத்தப்படாத வரிப் பணமாகும்.

III. சரியான கூற்றைக் கண்டுபிடிக்கவும்.

(2 × 1 = 2)

- GST பற்றி கீழ்க்கண்ட கூற்றுகளில் எது சரியானது?
(i) GST ‘ஒரு முனைவரி’
(ii) இது மத்திய மற்றும் மாநில அரசாங்களால் பொருட்கள் மற்றும் சேவைகளுக்கு விதிக்கப்படும் அனைத்து நேரடி வரிகளையும் மாற்றுவதை நோக்கமாகக் கொண்டுள்ளது.
(iii) இது சூலை 1, 2017 முதல் நாடு முழுவதும் அமுல்படுத்தப்பட்டது.
(iv) இது இந்தியாவில் வரி கட்டமைப்பை ஒன்றிணைக்கும்.
அ) (i) மற்றும் (ii) சரி ஆ) (ii), (iii) மற்றும் (iv) சரி
இ) (i), (iii) மற்றும் (iv) சரி ஈ) மேற்கூறிய அனைத்தும் சரியானவை.
- i) மத்திய அரசால் எளிதில் வசூலிக்கக்கூடிய வரிகள் இல்லை.
ii) இந்தியாவில் கிட்டத்தட்ட அனைத்து நேரடி வரிகளும் யூனியன் அரசாங்கங்களால் சேகரிக்கப்படுகின்றன.
அ) (i) மட்டும் சரி ஆ) (ii) மட்டும் சரி இ) இரண்டும் ஈ) எதுவுமில்லை

IV. பொருத்துக.

(4 × 1 = 4)

- வருமான வரி - அ) மதிப்புக் கூட்டு வரி
- ஆயத்தீர்வை - ஆ) ஜூலை 1, 2017
- VAT - இ) மறைமுக வரி
- GST - ஈ) நேர்முக வரி

V. குறுகிய விடையளிக்கவும்.

(2 × 3 = 6)

- வரி வரையறுக்க.
- கட்டணம் என்றால் என்ன?
- தேய்வுவீத வரி விதிப்பு முறை பற்றி எழுதுக.

V. விரிவான விடையளிக்கவும்.

(1 × 5 = 5)

- கருப்பு பணம் என்றால் என்ன? அதற்கான காரணங்களை எழுதுக.

விடைகள்

- இ) இரண்டும் (அ) மற்றும் (ஆ)
- ஈ) சுங்கத் தீர்வை
- ஆ) சொத்து வரி
- அ) ஆடம் ஸ்மித்
- ஜனநாயக
- வரிவிதிப்பு
- இ) (i), (iii) மற்றும் (iv) சரி
- 1 ஜூலை 2017
- கருப்பு பணம்
- ஈ) நேர்முக வரி
- இ) மறைமுக வரி
- அ) மதிப்புக் கூட்டு வரி
- ஆ) ஜூலை 1, 2017
- பார்க்க சுராவின் கையேடு V - 1
- பார்க்க சுராவின் கையேடு (கூடுதல் வினா) VI - 3
- பார்க்க சுராவின் கையேடு (கூடுதல் வினா) VI - 5
- பார்க்க சுராவின் கையேடு VI - 3.



10 ஆம்
வகுப்பு

உடனடித் தேர்வு - ஆகஸ்ட் - 2022

பதிவு எண்.

Part - III

கால அளவு : 3.00 மணி நேரம்]

சமூக அறிவியல் (விடைகளுடன்)

[மொத்த மதிப்பெண்கள் : 100

- அறிவுரைகள் :** (1) அனைத்து வினாக்களும் சரியாக அச்சப் பதிவாகி உள்ளதா என்பதனை சரிபார்த்துக் கொள்ளவும். அச்சப்பதிவில் குறைபாடு இருப்பின், அறைக் கண்காணிப்பாளரிடம் உடனடியாகத் தெரிவிக்கவும்.
- (2) **நீலம்** அல்லது **கருப்பு** மையினை மட்டுமே எழுதுவதற்கும் அடிக்கோடிடுவதற்கும் பயன்படுத்த வேண்டும். படங்கள் வரைவதற்கு பென்சில் பயன்படுத்த வேண்டும்.

குறிப்பு : இவ்வினாத்தாள் **நான்கு** பகுதிகளைக் கொண்டது.

பகுதி - I

- குறிப்பு:** (i) **அனைத்து** வினாக்களுக்கும் விடையளிக்கவும்.
- (ii) கொடுக்கப்பட்ட **நான்கு** விடைகளில் மிகவும் ஏற்புடைய விடையினைத் தேர்ந்தெடுத்து குறியீட்டுடன் விடையினையும் சேர்த்து எழுதவும். (14 × 1 = 14)

- பன்னாட்டுச் சங்கம் உருவாக்கப்படுவதில் முன்முயற்சி எடுத்தவர் யார்?
(அ) ஸ்வெல்ட்
(ஆ) சேம்பெர்லின்
(இ) உட்ரோ வில்சன்
(ஈ) பால்டுவின்
- திருச்சிராப்பள்ளி சுதந்திரப் பிரகடனத்தை வெளியிட்டவர் யார்?
(அ) மருது சகோதரர்கள்
(ஆ) பூலித்தேவர்
(இ) வீரபாண்டிய கட்டபொம்மன்
(ஈ) கோபால நாயக்கர்
- சோட்டா நாக்பூர் குத்தகைச் சட்டம் எதன் பின்னணியில் நிறைவேற்றப்பட்டது?
(அ) கோல் கிளர்ச்சி
(ஆ) இண்டிகோ கிளர்ச்சி
(இ) முண்டா கிளர்ச்சி
(ஈ) தக்காண கலவராங்கள்

- 1709-இல் தரங்கம்பாடியில் ஒரு முழுமையான அச்சகத்தை நிறுவியவர்
(அ) கால்டுவெல்
(ஆ) F.W. எல்லிஸ்
(இ) சீகன் பால்கு
(ஈ) மீனாட்சி சுந்தரனார்
- ஆம் ஆண்டில் லொக்கர்னோ உடன்படிக்கை கையெழுத்திடப்பட்டது.
(அ) 1927 (ஆ) 1925 (இ) 1825 (ஈ) 1952
- பழுவேற்காடு ஏரி மாநிலங்களுக்கிடையே அமைந்துள்ளது.
(அ) மேற்கு வங்காளம் மற்றும் ஒடிசா
(ஆ) கர்நாடகா மற்றும் கேரளா
(இ) ஒடிசா மற்றும் ஆந்திரப்பிரதேசம்
(ஈ) தமிழ்நாடு மற்றும் ஆந்திரப்பிரதேசம்
- ஒரே அளவு மழை பெறும் இடங்களை இணைக்கும் கோடு ஆகும்.
(அ) சம மழைக் கோடுகள்
(ஆ) சம அழுத்தக் கோடுகள்
(இ) சம வெப்ப கோடுகள்
(ஈ) அட்சக் கோடுகள்
- தமிழ்நாட்டின் நெற்களஞ்சியம் என்றழைக்கப்படுவது?
(அ) திருவாரூர் (ஆ) தஞ்சாவூர்
(இ) சேலம் (ஈ) திருச்சி

9. கீழ்க்கண்டவற்றில் தமிழ்நாட்டின் மேற்குத் தொடர்ச்சி மலையில் அமையாத கணவாய் எது?

- (அ) பாலக்காடு (ஆ) செங்கோட்டை
(இ) போர் காட் (ஈ) அச்சன் கோவில்

10. மக்கள் தொகையின் பல்வேறு அம்சங்கள் பற்றிய அறிவியல் பூர்வமான படிப்பு

- (அ) வரைபடவியல் (ஆ) மக்களியல்
(இ) மானுடவியல் (ஈ) கல்வெட்டியல்

11. கீழ்க்காணும் வரிசையில் 'முகவுரை' பற்றிய சரியான தொடர் எது?

- (அ) குடியரசு, ஜனநாயக, சமயச்சார்பற்ற, சமதர்ம, இறையாண்மை
(ஆ) இறையாண்மை, சமதர்ம, சமயச்சார்பற்ற, குடியரசு, ஜனநாயக
(இ) இறையாண்மை, குடியரசு, சமயச்சார்பற்ற, சமதர்ம, ஜனநாயக
(ஈ) இறையாண்மை, சமதர்ம, சமயச்சார்பற்ற, ஜனநாயக, குடியரசு

12. மாநில அமைச்சரவையின் தலைவர் :

- (அ) முதலமைச்சர் (ஆ) ஆளுநர்
(இ) சபாநாயகர் (ஈ) பிரதம அமைச்சர்

13. என்பது உடல்நலம் மற்றும் வளர்ச்சிக்கு தேவையான உணவை வழங்கும் அல்லது பெறும் செயல்முறையாகும்.

- (அ) ஆரோக்கியம் (ஆ) ஊட்டச்சத்து
(இ) சுகாதாரம் (ஈ) பாதுகாப்பு

14. முதன்மை துறைஐ உள்ளடக்கியது.

- (அ) வேளாண்மை (ஆ) தானியங்கிகள்
(இ) வர்த்தகம் (ஈ) வங்கி

பகுதி - II

குறிப்பு : எவையேனும் 10 வினாக்களுக்கு விடையளிக்கவும். அவற்றில் வினா எண் 28-க்கு கட்டாயமாக விடையளிக்கவும். (10 × 2 = 20)

15. ஆங்கிலேய இந்தியாவில் விவசாயிகளின் கிளர்ச்சி எவ்வாறு வகைப்படுத்தப்பட்டுள்ளன?
16. மூவர் கூட்டு நாடுகளின் பெயர்களைக் குறிப்பிடுக.

17. முழுமையான சுயராஜ்ஜியம் என்றால் என்ன?

18. பாளையக்காரர்களின் கடமைகள் யாவை?

19. இந்தோ-சீனாவில் நடைபெற்ற "வெள்ளை பயங்கரம்" குறித்து நீங்கள் அறிந்ததென்ன?

20. இந்திய திட்டநேரத்தின் முக்கியத்துவம் பற்றி கூறுக.

21. 'வேளாண்மை' - வரையறுக்கவும்.

22. தாமிரபரணி ஆற்றின் துணை ஆறுகளின் பெயர்களை எழுதுக.

23. தமிழ்நாட்டின் முக்கிய பல்நோக்கத் திட்டங்களின் பெயர்களை எழுதுக.

24. இந்தியாவின் செம்மொழிகள் எவை?

25. உணவு மற்றும் ஊட்டச்சத்து பாதுகாப்பின் மூன்று அடிப்படைக் கூறுகள் யாவை?

26. பண்டங்கள் மற்றும் பணிகள் வரி பற்றி சிறு குறிப்பு வரைக.

27. தொழில் துறைத் தொகுப்பு என்றால் என்ன?

28. பஞ்சசீல கொள்கைகளில் ஏதேனும் நான்கினைப் பட்டியலிடுக.

பகுதி - III

குறிப்பு : எவையேனும் 10 வினாக்களுக்கு விடையளிக்கவும். வினா எண் 42-க்கு கட்டாயமாக விடையளிக்கவும். (10 × 5 = 50)

29. கோட்ட இடங்களை நிரப்புக.

- (i) கட்டமொம்மன் என்ற இடத்தில் தூக்கிலிடப்பட்டார்.
(ii) என்பவர் 'வெள்ளையனே வெளியேறு' இயக்கத்தின் போது காங்கிரஸ் வானொலியை திரைமறைவாக செயல்படுத்தினார்.
(iii) நீலகிரி மற்றும் தர்மபுரி மாவட்டங்களுக்கிடையே காணப்படும் பீடபூமி ஆகும்.
(iv) சாத்தனூர் அணை ஆற்றின் குறுக்கே கட்டப்பட்டுள்ளது.
(v) இரண்டாம் துறையை துறை எனவும் அழைக்கலாம்.

30. வேலூரில் 1806-இல் வெடித்த புரட்சியின் கூறுகளை விளக்குக.

31. இரண்டாம் உலகப் போரின் விளைவுகளை ஆய்வு செய்க.